

№ Задания по истории для 9 гуманитарного класса СУНЦ -2019

Шифр \_\_\_\_\_

заполняется ОКО

1	2	3	4	5	6	7	8	Всего
Макс.5	Макс.7	Макс.7	Макс.7	Макс.8	Макс.5	Макс.5	Макс.6	Макс.50

**Задание 1. Всеобщая история. Максимально 5 баллов.**

**А.** Блиц-эрудит. Политические портреты. Кто есть кто? Сделайте дополнения.

1. Бедный чешский дворянин, участник Грюнвальдской битвы в \_\_\_\_\_ г.

Его назвали «страшным слепцом», он был горячим приверженцем борьбы против немецких рыцарей-крестоносцев. После сожжения на костре идейного вдохновителя повстанцев \_\_\_\_\_, именно он возглавил гуситов. Несмотря на слепоту, одерживал блестящие победы над противником. Тевтонцев с ко-ней стаскивали крюками и «домолачивали» цепями. Однако из-за раскола в лагере \_\_\_\_\_

и предательства начались столкновения между умеренными \_\_\_\_\_ и радикалами \_\_\_\_\_. Кто этот защитник славянских интересов? \_\_\_\_\_

2. Кочевые племена \_\_\_\_\_ пришли из Китая, Монголии, через Алтай в Европу.

Под их ударами распалась держава \_\_\_\_\_ в Восточной Европе.


Опустошительные походы в Восточную Римскую империю, Галлию, Северную Италию проводились в \_\_\_\_\_ веке н.э. Самого известного предводителя называли «бич божий», его воины питались полусырым мясом, изготавливали одежды из кожи врагов, их кони малорослые, но неутомимые буквально сливались в единое целое со всадниками, на них кочевники охотились, воевали, пили, ели и спали. Он руководил 500 тысячным войском варваров на Каталунских полях.

Его молил о пощаде сам папа римский. Кто это? \_\_\_\_\_

3. Греческий механик, физик, математик, инженер из города \_\_\_\_\_. Был оветником царя Сицилии. По объёму вытесненной жидкости определил объём и вес его короны. С помощью зеркал сжёг римский флот, осадивший Александрию.

Вы- числял значение числа \_\_\_\_\_. Кто изобрёл \_\_\_\_\_, установил правило рычага? \_\_\_\_\_

**Б.** Что вы знаете об этом строении?



**Задание 2. Россия и мир.**  
*Максимум 7 баллов.*

**А. Работа с картой.**

Отметьте на карте устье  
Волги - буквой В;  
Устье Днепра – буквой Д.

\*Укажите цифрами на карте  
места нахождения в XV веке

- 1.Крымского ханства;
- 2.Казанского ханства;
- 3.Астраханского ханства;
- 4.Ногайской орды;

Назовите какой торговый  
путь станет с XVII века  
главным? \_\_\_\_\_



**Б. Кто – кому – кем приходится? Заполните пропуски.**

Кем приходился племянник австрийского императора Карла VI Габсбурга Антон-Ульрих Брауншвейг-Беверн-Люненбургский принцессе Мекленбург-Шверинской, внучке Ивана V Романова Анне Леопольдовне? \_\_\_\_\_

Кем приходился царь Фёдор III Петру Алексеевичу Романову? \_\_\_\_\_

Чей княжеский сын выкупался из плена на деньги Строгановых? \_\_\_\_\_

**В. Чьи эти прозвища? Выпишите соответствующие цифры:**

_____ «Равноапостольный» /ая/	1.Рюрик;	10. Иван III
_____ «Красный», «кроткий»	2.Кирилл и Мефодий;	Васильевич;
_____ «Незабвенный», «Палкин»	3.княгиня Ольга;	11.Михаил
_____ «Варяжский», «русский»	4.Святослав Игоревич;	Фёдорович
_____ «Барс», «храбрый»	5.Владимир Святославич;	Романов;
_____ «Великий» /ая/	6.Ярослав Владимирович;	12.Пётр I;
_____ «Боголюбский»	7.Андрей Юрьевич;	13.Екате-
_____ «Осмомысл»	8.Александр Ярославич;	рина II;
	9.Иван II Данилович;	14.Николай I
		Павлович.

**Задание 3. Война и мир. Максимум 7 баллов.**

**А. Работа с таблицей. Заполните пропуски.**

□

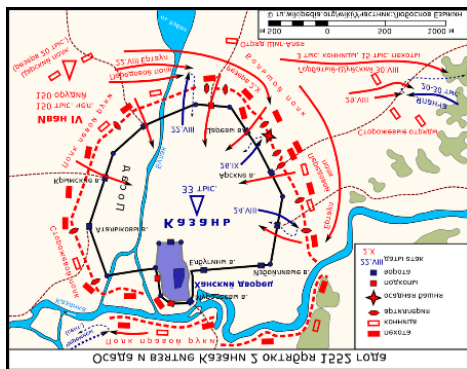
Война, сражение, поход	Когда произошло событие?	Кто против кого воевал?	Каковы результаты и последствия военных действий?
Чигиринская война		Против России Турция + крымский хан	Турция признала власть России над Левобережной Украиной и Киевщиной. Наши паломники могут свободно проезжать в Иерусалим.

Штурм острова Корфу	19-20 февраля 1799 г.	?	?
Походы на Москву	1368, 1370, 1372	литовский князь Ольгерд против ?	?

**Б.** Составьте логические цепочки, выписав к соответствующему правоустанавливающему документу буквой дату и цифрой содержание:

- |                             |        |  |
|-----------------------------|--------|--|
| ___ Андрусовское перемирие  | а/1385 | 1.Верхнее и Среднее Приамурье Китаю, нижнее к России;        |
| ___ Карловицкий конгресс    | б/1617 | 2.Нам Новгород, шведам берег Балтики;                        |
| ___ Кревская уния           | в/1667 | 3.Третий раздел Речи Посполитой;                             |
| ___ Нерчинский договор      | г/1689 | 4.Выработка условий мира между «Священной лигой» и османами. |
| ___ Петербургская конвенция | д/1698 | 5.Нам Смоленск,Чернигов от Польши;                           |
| ___ Столбовский мир         | е/1795 | 6.Ягайло в Польше, Витовт в Литве.                           |

**В.** Что вам известно об этом сражении?



#### Задание 4. Социально-политическое развитие России.

Максимум 7 баллов.

**А.** Задание на анализ исторической ситуации. Вставьте нужное, отбросив лишнее: 1437,1439, 1441, 1448, 1453, 1523, 1589

Рим, Ферраре, Флоренция, Москва

Иоанн Палеолог, Константин Палеолог, Василий II, Василий III

Филофей, Исидор, Иона, Иов

После подписания в \_\_\_\_\_ унии между

византийским императором \_\_\_\_\_ и Римским папой Евгением IV акта о соединении христианской церкви, московский митрополит \_\_\_\_\_, во время путешествия в Италию поддержал унию, за что от папы получил сан кардинала. Когда он в марте \_\_\_\_\_ года торжественно вернулся в \_\_\_\_\_ перед ним несли латинский крест на длинном древке и серебряные католические жезлы. Процессия прошла в Кремль и митрополит в Успенском соборе отслужил молебен за великого князя \_\_\_\_\_. На литургии вместо имени константинопольского патриарха было возглаговано имя папы римского. Но русские священнослужители не простили Исидора за уступки «латинянам». В \_\_\_\_\_ году собором, без утверждения в Византии, самостоятельно был избран митрополит \_\_\_\_\_. После падения Византии в \_\_\_\_\_ году при \_\_\_\_\_ Москва стала претендовать на роль нового духовного центра. Монах Псково-Елизарова монастыря \_\_\_\_\_ в письмах великому князю \_\_\_\_\_ создаёт теорию \_\_\_\_\_ в \_\_\_\_\_ гг. Завершает процесс превращения русской церкви в \_\_\_\_\_ учреждение в России патриаршества в \_\_\_\_\_ году. Избран патриарх \_\_\_\_\_.

**Б. Задание на знание исторических понятий и терминов.**

Термин (придуманый маршалом Б.Х Минихом) обозначающий реакционный режим управления при Анне Иоановне, когда из-за засилья немцев в системе власти расцвело воровство, разграбление казны, безумные празднования, необоснованные репрессии соотечественников \_\_\_\_\_

*Генеральный регламент,*



это \_\_\_\_\_

Кто этот всадник? Проводником чьей политики он являлся? Когда и кем она проводилась? Для чего?

**Задание 5.**

**Социально-экономическое развитие России.**

*Максимум 8 баллов.*

**А. Сословия и сословные категории России конца XVIII века.**

_____ Господствующее, правлящее сословие	1.Духовенство белое	10.Потомственные дворяне
_____ Полупривилегирован- ные сословия	2.Духовенство чёрное	11.Казачи
_____ Податные сословия	3.Мастеровые люди	12.Личные дворяне
	4.Ратные люди	13.Мещане
	5.Шляхетство	14.Однодворцы
	6.Разночинцы	15. Купцы
	7.Иностранные колонисты	16.Цеховые ремесленники
	8.Ясашные крестьяне	17.Дворцовые крестьяне
	9.Титулованные дворяне	

Поясните, что такое податное сословие \_\_\_\_\_

---

**Б. Задание на систематизацию и группировку событий, явлений:**

Какие явления, из перечисленных ниже, характеризуют положение крестьян с середины XVII века ? Укажите цифрами: \_\_\_\_\_

1.Рост размеров пожилого;	Сгруппируйте эти явления / цифрами/:
2.Увеличение сроков урочных лет;	Иван III _____
3.Бессрочный сыск беглых;	Иван IV _____
3.Введение Юрьева дня;	Шуйский В. _____
4.Отмена Юрьева дня;	Михаил Романов ____
5.Начало закрепощения крестьян;	Алексей Романов ____
6.Завершение закрепощения крестьян;	
7.Введение заповедных лет.	

Иллюстрацией каких исторических



событий в крестьянской жизни стала картина передвижника С.В.Иванова?

### Задание 6. История Урала.

*Максимально 5 баллов.*

#### А. Чайнворд.

*По вертикали:* **1.** Кем была Екатерина, в честь которой назвали наш город?

*По горизонтали:* **1.** В верховьях р.Тура было древнее вогульское городище Неромкур, по-мансийски – Каменный город. Почему ушли из него люди никто не знает. Но в 1598 г. здесь построили новый город с каменным кремлём, таможней, ямской станцией. Полтора века он был «воротами в Сибирь», его воеводам тогда подчинялась почти вся территория нынешней Свердловской области. Что это за город? **2.** Посёлок, а сейчас район Екатеринбурга, близ Уктусских гор на р.Патрушиха сохранил имя цесаревны, дочери Петра I. **3.** Режиссёр фильмов «Угрюм-река», «Демидовы», «Приваловские миллионы». Последний снят в усадьбе Харитонов-Расторгуева напротив Храма-на-Крови в нашем городе. **4.** Монастырь, в котором укрывался

первый Романов и дом, в котором расстреляли семью последнего имеют одно название.

Какое? **5.** Здание с помпезным названием шедевра архитектуры Древнего Рима, в нём

располагался с 1845 г. первый в нашем городе театр ( архитектор Карл Турский), в 1896 г.

прошёл первый киносеанс. **6.** Какой город на Южном Урале в 1833 году посещал А.С.Пуш-

кин, ведя сбор материалов по истории Пугачёва для «Капитанской дочки»? **7.** Вид транс-

порта, столицей которого стал Ирбит; **8.** Как после восстания Пугачёва Екатерина II стала

именовать яицкое казачье войско? **9.** Великая уральская река, приток Камы, её название с

коми-пермяцкого означает «быстрая вода». Она пробилла Уральский хребет с востока на

запад, из Азии в Европу. **10.** Какое имя объединяет наших земляков: губернатора Сверд-

ловской области Куйвашева, экс-мэра Екатеринбурга Ройзмана, автора «Уральской ряби-

нушки» композитора Родыгина, телеведущего 4 канала Енина, дирижёра театра оперы и

балета Бражника, альпиниста, 5 раз восходившего на Эверест, Виноградского? **11.** В годы

Гражданской войны на Урале какую должность занимал Чапаев В.И. и Онуфриев И.А.?

**12.** К памятникам конструктивизма на Урале относят «Городок чекистов» в Екатеринбурге.

Его строительство началось в 1929 г. и закончилось в 1936 г. Сверху Городок чекистов

похож на символ дружбы рабочих и крестьян – серп и молот, да ещё в обрамлении знамён.

Молот – здание Дворца культуры, теперь это одна из площадок краеведческого музея,

знамёна – остальные дома квартала. На какой реке стоит город и как называется гости-

ница, которая изображала серп? **13.** Название моста, имеющего статус памятника архи-

тектуры, построенного архитектором С.С.Козловым в честь Александра I, посещавшего

наш город; **14.** Месторасположение дома-музея П.И.Чайковского, в котором он написал



свой «Детский альбом». Здесь собрана коллекция музыкальных инструментов мира.

**Б. Знаете ли вы свой край?** К названию выпишите соответствующую букву:

\_\_\_ Ганина Яма  
музея изобразитель-

платья женщи

\_\_\_ Шайтан Камень  
Урбинас, 1509 г.

писаница язычников;

\_\_\_ Невьянская башня  
из чугуна, экспони-

Е.Баумгартена,

\_\_\_ Тагильская мадонна  
работы Марии Диллан)

громоотводом;

\_\_\_ Каслинский павильон  
в 30 км от Екатерин

А. деталь картины «Святое семейство»

ных искусств Н.Тагила сохранила на вороте

ны семьи дель Пополо надпись: Рафаэль

Б. близь Режа найдена на камне древняя

В. единственное в мире арх. сооружение

руется на Плотинке нашего города (проект

вещие женщины-птицы в декоре

Г. Падающая башня с первым в мире

Д. Монастырь, на заброшенном руднике,

бурга, где нашли 11 тел,

**Задание 7. Мировая художественная культура.**

**Максимум 5 баллов.**

**А. Древний Египет.**

Кто из богов изображался с головой  
осла, барана, сокола, чью голову ук-  
рашали коровьи рога, солнечный диск,  
крылья, а кто был зелёной мумией?

Как назывались главные божества?

1. Верховное божество, бог Солнца и

правитель мира - \_\_\_\_\_

2. Царь загробного мира \_\_\_\_\_


3. Богиня- мать, защитница детей \_\_\_\_\_

4. Бог ярости и злого начала – Сет;

5. Бог ветра – Амон.

Проставьте соответствующие цифры

к их изображениям.



**Б. Античная культура.**



А.Македонский сказал: «Если

бы я не был Александром, я бы хотел быть...» Кем? \_\_\_\_\_

Когда Александр встретился с этим философом он сказал: «Проси, что захочешь». «Не заслоняй мне солнце!» - ответил тот. Где и когда жил этот человек? \_\_\_\_\_

Почему днём ходил с фонарём?


\_\_\_\_\_

**В. Библейский сюжет.**

Кто за 30 серебряников предал  
Христа? а/ Ирод; б/ Иуда;  
в/ апостол Пётр.  
Где? а/ на Тайной вечере;  
б/ в Гефсиманском саду.  
Что стало знаком предательства?

---

Дополните сюжет:



**Задание 8. Отечественная культура.**

*Максимум 6 баллов.*

**А.** Составьте верные суждения о трёх памятниках России, выписав соответствующие цифры к каждому из них:

Фонтан «Самсон» \_\_\_\_\_

Обелиск А.В.Суворову \_\_\_\_\_

Памятник Афанасию Никитину \_\_\_\_\_

1. Монумент на Марсовом поле Санкт-Петербурга;
2. Эта 4-х метровая статуя открыта на родине знаменитости в Твери;
3. Это одна из жемчужин Петергофа в честь победы над шведами Петра I;
4. Статуя поставлена в честь «бога войны» скульптором М.И.Козловским;
5. По проекту Ф.Б.Расстрелли скульптуру воплощали в жизнь в XIX в. М.И. Козловский, а в XX - ленинградцы В.Л.Симонов, П.В.Михайлов;

6. Мимо этого памятника наши войска уходили на фронт воевать с фашистами;

7. Герой на 30 лет раньше португальца Васко да Гама высадился у Мумбаи, на западном побережье Индии в 1469 году.

Подчеркните какой монумент на фото.

**Б.** Какой стиль объединяет работы авторов в списке?

\_\_\_\_\_

а/В.Тропинин «Кружевница»

б/ К.Брюллов «Итальянский полдень»;

в/И.Айвазовский «Девятый вал»;

г/О.Кипренский «Мечтательница»

д/С.Щедрин «Веранда, обвитая виноградом»;

е/В.Перов «Тройка»;

ж/А.Орловский «Быстрая тройка»

Автор /буквой/ \_\_\_\_\_

Назовите авторов картин на фото:

Вычеркните из списка лишнее.

Автор

/буквой/ \_\_\_\_\_



**В.** История на кончике кисти и пера. Заполните пропуски. Поясните сюжет гравюры.

«Не склонился гость-чужак в поклоне,      Ответ

по сюжету:

А хвалебно он князьям изрёк:  
Я \_\_\_\_\_ ! Права наши в законе –  
В \_\_\_\_\_ -граде властвовать навек  
\_\_\_\_\_ нас послал из Новограда  
Чтобы мы сплотили племена.  
Нам права вручила наша рада –  
Княжить будут наши имена.  
Выхватил \_\_\_\_\_ свой меч из ножен,  
\_\_\_\_\_ молился небу и богам.  
Но \_\_\_\_\_ с рожденья был безбожен –  
Мёртвый караул упал к ногам».



1	2	3	4	5	6	7	8	Всего
Макс.5	Макс.7	Макс.7	Макс.7	Макс.8	Макс.5	Макс.5	Макс.6	Макс.50

**Задание 1. Всеобщая история.** Максимально 5 баллов.

**А.** Блиц-эрудит. Политические портреты. Кто есть кто? Сделайте дополнения.

1. Бедный чешский дворянин, участник Грюнвальдской битвы в **1410** г.

Его назвали «страшным слепцом», он был горячим приверженцем борьбы против немецких рыцарей-крестоносцев. После сожжения на костре идейного вдохновителя повстанцев **Яна Гуса**, именно он возглавил гуситов. Несмотря на слепоту, одерживал блестящие победы над противником. Тевтонцев с коней стаскивали крюками и «домолачивали» цепями. Однако из-за раскола в лагере и предательства начались столкновения между умеренными **чашниками** и радикалами **таборитами**. Кто этот защитник славянских интересов? **ЯН ЖИЖКА**

2. Кочевые племена **гуннов** пришли из Китая, Монголии, через Алтай в Европу. Под их ударами распалась держава **Германариха /Готская/** в Восточной Европе. Опустошительные походы в Восточную Римскую империю, Галлию, Северную Италию проводились в **сер. V века** н.э. Самого известного предводителя называли «бич божий», его воины питались полусырым мясом, изготавливали одежды из кожи врагов, их кони малорослые, но неутомимые буквально сливались в единое целое со всадниками, на них кочевники охотились, воевали, пили, ели и спали. Он руководил 500 тысячным войском варваров на Каталунских полях. Его молил о пощаде сам папа римский. Кто это? **АТИЛЛА**

3. Греческий механик, физик, математик, инженер из города **Сиракузы**. Был советником царя Сицилии. По объёму вытесненной жидкости определил объём и вес его короны. С помощью зеркал сжёг римский флот, осадивший Александрию. Вычислял значение числа **ПИ**. Кто изобрёл **катапульту**, установил правило рычага? **АРХИМЕД**

**Б.** Что вы знаете об этом строении?

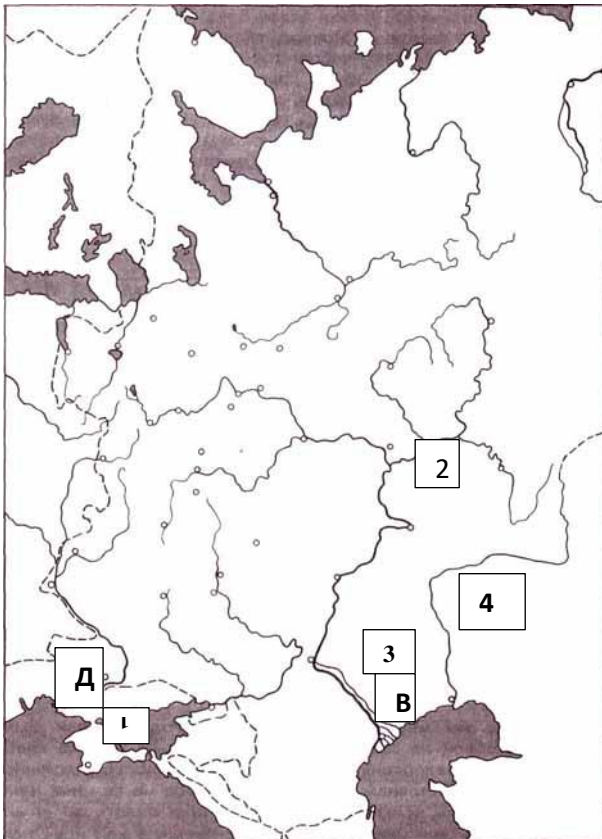
**Собор Парижской Богоматери / Нотр-Дам де Пари/ на о.Сити.**

**Строительство начато в 1163 г. в XII в. завершилось к середине XIV.**

**Готический храм, Виктор Гюго посвятил ему свой роман. Фасады украшены скульптурами, есть статуи химер, витражи, окна-розы.**

**Хранится Терновый венец Христа. Пожар в апреле 2019 года не**

**Пощадил центральный шпиль. На шпиле помещался петух.**



## Задание 2. Россия и мир.

Максимум 7 баллов.

### А. Работа с картой.

Отметьте на карте устье Волги - буквой В;  
Устье Днепра – буквой Д.

\*Укажите цифрами на карте места нахождения в XV веке

1. Крымского ханства;
2. Казанского ханства;
3. Астраханского ханства;
4. Ногайской орды;

Назовите какой торговый путь станет с XVII века главным? **Волжский**

### Б. Кто – кому – кем приходится? Заполните пропуски.

Кем приходился племянник австрийского императора Карла VI Габсбурга Антон-Ульрих Брауншвейг-Беверн-Люненбургский принцессе Мекленбург-Шверинской, внучке Ивана V Романова Анне Леопольдовне? **МУЖ**

Кем приходился царь Фёдор III Петру Алексеевичу Романову? **Сводный брат**

Чей княжеский сын выкупался из плена на деньги Строгановых? **Сын Василия I и Софьи Витовтовны Василий II, будущий ТЁМНЫЙ**

### В. Чьи эти прозвища? Выпишите соответствующие цифры:

- |  |                         |                        |
|--|-------------------------|------------------------|
| <b>2,3,5,8</b> «Равноапостольный» /ая/ | 1.Рюрик;                | 10. Иван III           |
| <b>9,11</b> «Красный», «кроткий»       | 2.Кирилл и Мефодий;     | Васильевич             |
| <b>14</b> «Незабвенный», «Палкин»      | 3.княгиня Ольга;        | 11.Михаил              |
| <b>1</b> «Варяжский», «русский»        | 4.Святослав Игоревич;   | Фёдорович              |
| <b>4</b> «Барс», «храбрый»             | 5.Владимир Святославич; | Романов;               |
| <b>10,12,13</b> «Великий» /ая/         | 6.Ярослав Владимирович; | 12.Пётр I;             |
| <b>7</b> «Боголюбский»                 | 7.Андрей Юрьевич;       | 13.Екатерина II;       |
| <b>6</b> «Осомысл»                     | 8.Александр Ярославич;  |                        |
|  | 9.Иван II Данилович;    | 14.Николай I Павлович. |



**Задание 3. Война и мир. Максимум 7 баллов.**

**А. Работа с таблицей. Заполните пропуски.**

Война, сражение, поход	Когда произошло событие?	Кто против кого воевал?	Каковы результаты и последствия военных действий?
Чигиринская война	1676-1681	Против России Турция + крымский хан	Турция признала власть России над Левобережной Украиной и Киевщиной. Наши паломники могут свободно проезжать в Иерусалим.
Штурм острова Корфу	18-20 февраля 1799 г.	<b>Против французов /ген. Л.Ф.Ж.Шабо/</b> <b>II коалиция: Ф.Ушаков + турецкий Херим-капитан</b>	<b>Победа России. Ионические острова освобождены из-под власти Франции</b> <b>Под протекторатом России +Турции создана республика 7 Островов, у нас появилась военная база.</b>
Походы на Москву	1368, 1370, 1372	литовский князь Ольгерд против московского князя сына Ивана II Дмитрия будущего Донского.	<b>Ольгерд стремился расширить литовское княжество. Поддерживал Тверь против Москвы. Трижды совершил неудачные штурмы города. Москвичи их отбили. Впоследствии Витовт, враг Ольгерда, породнится с московским князем.</b>

**Б. Составьте логические цепочки, выписав к соответствующему правоустанавливающему документу буквой дату и цифрой содержание:**

<b>_5в_ Андрусовское перемирие</b>	a/1385	1.Верхнее и Среднее Приамурье Китаю, нижнее к России;
<b>_4д_ Карловицкий конгресс</b>	б/1617	2.Нам Новгород, шведам берег Балтики;
<b>_6а_ Кревская уния</b>	в/1667	3.Третий раздел Речи Посполитой;
<b>_1г_ Нерчинский договор</b>	г/1689	4.Выработка условий мира между «Священной лигой» и османами.
<b>_3е_ Петербургская конвенция</b>	д/1698	5.Нам Смоленск,Чернигов от Польши;
<b>_2б_ Столбовский мир</b>	е/1795	6.Ягайло в Польше, Витовт в Литве.

**В. Что вам известно об этом сражении?**

**С 19 августа осада города. Меняли пленников на продовольствие и воду. На схеме штурм Казани 2 октября 1552 г. Иваном Грозным + Горбатый Шуйский, князь Серебряный + Андрей Курбский. И.Выродков соорудил осадную башню. В городе Сююн-беке, Утямыш, помощники Ядыгер, Япанча. Казань взята.**

#### Задание 4. Социально-политическое развитие России.

Максимум 7 баллов.

А. Задание на анализ исторической ситуации. Вставьте нужное, отбросив лишнее: 1437, 1439, 1441, 1448, 1453, 1523, 1589

Рим, Ферраре, Флоренция, Москва

Иоанн Палеолог, Константин Палеолог, Василий II, Василий III

Филофей, Исидор, Иона, Иов

После подписания в **1437-1439** годах **Ферраро-Флорентийской** унии между византийским императором **Иоанном Палеологом** и Римским папой Евгением IV акта о соединении христианской церкви, московский митрополит **Исидор**, во время путешествия в Италию поддержал унию, за что от папы получил сан кардинала. Когда он в марте **1441** года торжественно вернулся в **Москву** перед ним несли латинский крест на длинном древке и серебряные католические жезлы. Процессия прошла в Кремль и митрополит в Успенском соборе отслужил молебен за великого князя **Василия II**. На литургии вместо имени константинопольского патриарха было возглаголено имя папы римского. Но русские священнослужители не простили Исидора за уступки «латинянам». В **1448** году собором без утверждения в Византии самостоятельно был избран митрополит **Иона**. После падения Византии в **1453** г. при **Констанине Палеологе**. Москва претендует на место нового духовного центра. Монах Псково-Елизарова монастыря **Филофей** в письмах великому князю **Василию III** создаёт теорию «**Москва – третий Рим**» (**1523-1524** гг.). Завершает процесс превращения русской церкви в **автокефальную** учреждение в России патриаршества в **1589** году. Избран **Иов**.

Б. Задание на знание исторических понятий и терминов.

Термин (придуманый маршалом Б.Х Минихом) обозначающий реакционный режим управления при Анне Иоановне, когда из-за засилья немцев в системе власти расцвело воровство, разграбление казны, безумные празднества, необоснованные репрессии соотечественников – **Бироновщина (1730-1740)**

**Генеральный регламент- устав государственной гражданской службы Петра I**



Кто этот всадник? Проводником чьей политики он являлся? Когда и кем она проводилась? Для чего? **Опричник Ивана Грозного / с метлой и головой собаки/ политика массового террора 1565-1572/, система чрезвычайных мер по укреплению личной власти царя.**

## Задание 5. Социально-экономическое развитие России.

Максимум 8 баллов.

### А. Сословия и сословные категории России конца XVIII века.

<b>5,9,10,12</b> Господствующее, правящее сословие	1.Духовенство белое	10.Потомственные дворяне
<b>1,2,6,7,11,15</b> Полупривилегированные сословия	2.Духовенство чёрное	11.Казаки
<b>3,4,8,13,14,16,17</b> Податные сословия	3.Мастеровые люди	12.Личные дворяне
	4.Ратные люди	13.Мещане
	5.Шляхетство	14.Однодворцы
	6.Разночинцы	15.Купцы
	7.Иностранные колонисты	16.Цеховые ремесленники
	8.Ясашные крестьяне	17.Дворцовые крестьяне
	9.Титулованные дворяне	

Поясните, что такое податное сословие платило подушную подать, подвергалось телесным наказаниям, выполняло рекрутскую и др. повинности.

### Б. Задание на систематизацию и группировку событий, явлений:

Какие явления, из перечисленных ниже, характеризуют положение крестьян с середины XVII века? Укажите цифрами: 3а,4,6

- 1.Рост размеров пожилого;
- 2.Увеличение сроков урочных лет;
- 3а.Бессрочный сыск беглых;
- 3б.Введение Юрьева дня;
- 4.Полная отмена Юрьева дня;
- 5.Начало закрепощения крестьян;
- 6.Завершение закрепощения крестьян;
- 7.Введение заповедных лет.

Сгруппируйте эти явления / цифрами/:

Иван III 3б,5  
Иван IV 1,8  
Шуйский В. 2  
Михаил Романов 2  
Алексей Романов 4,3а,6



Иллюстрацией какого исторического события в крестьянской жизни стала картина передвижника С.В.Иванова?

**Юрьев день 26 ноября, крестьянин привёз пожилое. Уплата шла после 4 летнего проживания на земле феодала в лесистой зоне полтина, в удалённой 1 рубль. Пожилое отменили Соборным Уложением 1649 года.**

**Задание 6. История Урала.**

1	В	Е	Р	Х	О	Т	У	Р	Ь	Е	
2	Е	Л	И	З	А	В	Е	Т			
3	Л	А	П	Ш	И	Н					
4	И	П	А	Т	Ь	Е	В	С	К	И	Й
5	К	О	Л	И	З	Е	Й				
6	О	Р	Е	Н	Б	У	Р	Г			
7	М	О	Т	О	Ц	И	К	Л	Ы		
8	У	Р	А	Л	Ь	С	К	О	Е		
9	Ч	У	С	О	В	А	Я				
10	Е	В	Г	Е	Н	И	Й				
11	Н	А	Ч	Д	И	В					
12	И	С	Е	Т	Ь						
13	Ц	А	Р	С	К	И	Й				
14	А	Л	А	П	А	Е	В	С	К		

**Б. Знаете ли вы свой край?** К названию выпишите соответствующую букву:

Д Ганина Яма

Б Шайтан Камень

Г Невьянская башня

А Тагильская мадонна

В Каслинский павильон

А. деталь картины «Святое семейство» музея изобразительных искусств Н.Тагила сохранила на вороте платья женщины семьи дель Пополо надпись: Рафаэль Урбинас,1509 г.

Б. близь Режа найдена на камне древняя писаница язычников;

В. единственное в мире арх. сооружение из чугуна, экспонируется на Плотинке нашего города (проект Е.Баумгартена, вещи женщины-птицы в декоре работы Марии Диллан)

Г. Падающая башня с первым в мире громоотводом;

Д. Монастырь, на заброшенном руднике, в 30 км от Екатеринбурга, где нашли 11 тел,

## Задание 7. Мировая художественная культура.

*Максимум 5 баллов.*

### А. Древний Египет.

Кто из богов изображался с головой осла, барана, сокола, чью голову украшали коровьи рога, солнечный диск, крылья, а кто был зелёной мумией?

Как назывались главные божества?

1. Верховное божество, бог Солнца и правитель мира - **РА**
2. Царь загробного мира **ОСИРИС**
3. Богиня- мать, защитница детей **Исида**
4. Бог ярости и злого начала – Сет;
5. Бог ветра – Амон.

Проставьте соответствующие цифры

к их изображениям. **Верх: 1,3, внизу: 2,4,5**

### Б. Античная культура.

Александр Македонский сказал:

«Если бы я не был Александром, я бы

хотел быть...» Кем? **Диогеном Синопским**

Когда полководец встретился с этим философом, он произнёс: «Проси, что захочешь». «Не заслоняй мне солнце!»

ответил тот. Где и когда жил этот че-

ловек? **Жил, как собака, в бочке. Род.в 412 в**

**Синопе, ум. в 323 г до н.э. в Коринфе в Греции,**

**Т.е. жил V-IV вв. до н.э.**

Почему днём ходил с фонарём?

**Киник, с фонарём искал человека.**

### В. Библейский сюжет.

Кто за 30 серебряников предал

Христа? **а/ Ирод; б/ Иуда;**

**в/ апостол Пётр.**

Где? **а/ на Тайной вечере;**

**б/ в Гефсиманском саду.**

Что стало знаком предательства?

**Поцелуй Иуды выдал стражникам мессию.**

**Потом повесился. Хотел на берёзе, но она**

**побелела от страха, выбрал осину /листья**

**стали дрожать, даже когда ветра нет/.**

## Задание 8. Отечественная культура.

Максимум 6 баллов.

А. Составьте верные суждения о трёх памятниках России, выписав соответствующие цифры к каждому из них:

Фонтан «Самсон» 3 5

Обелиск А.В.Суворову 1 4 6

Памятник Афанасию Никитину 2 7

- 1.Монумент на Марсовом поле Санкт-Петербурга;
- 2.Эта 4-х метровая статуя открыта на родине знаменитости в Твери;
- 3.Это одна из жемчужин Петергофа в честь победы над шведами Петра I;
- 4.Статуя поставлена в честь «бога войны» скульптором М.И.Козловским;
- 5.По проекту Ф.Б.Расстрелли скульптуру воплощали в жизнь в XIX в. М.И. Козловский, а в XX - ленинградцы В.Л.Симонов, П.В.Михайлов;
- 6.Мимо этого памятника наши войска уходили на фронт воевать с фашистами;
- 7.Герой на 30 лет раньше португальца Васко да Гама высадился у Мумбаи, на западном побережье Индии в 1469 году.

Подчеркните какой монумент на фото.

Б. Какой стиль объединяет работы авторов в списке?

**РОМАНТИЗМ**

а/В.Тропинин «Кружевница»

б/ К.Брюллов «Итальянский полдень»;

в/И.Айвазовский «Девятый вал»;

г/О.Кипренский «Мечтательница»

д/С.Щедрин «Веранда, обвитая виноградом»;

е/**В.Перов «Тройка»**; лишнее

ж/А.Орловский «Быстрая тройка»

Автор /буквой/ д

Назовите авторов картин:

Вычеркните из списка лишнее.

Автор /буквой/ б

В. История на кончике кисти и пера. Заполните пропуски. Поясните сюжет гравюры.

	<p><b>На гравюре Ф.А.Бруни отражены события 882 г. Олег предьявляет сына Рюрика Игоря Аскольду и Диру, объявляя им что это настоящий князь, а Аскольд и Дир лишь слуги его. Олег убил последних. Киев стал стольным градом. 882 г стал датой образования Древнерусского государства.</b></p>	<p>«Не склонился гость-чужак в поклоне, А хвалебно он князьям изрёк: Я Олег! Права наши в законе – В Киев-граде властвовать навек Рюрик нас послал из Новограда Чтобы мы сплотили племена. Нам права вручила наша рада – Княжить будут наши имена. Выхватил Аскольд свой меч из ножен, Дир молился небу и богам. Но Олег с рожденья был безбожен – Мёртвый караул упал к ногам».</p>
--	--	--