

## Задание по истории к вступительным испытаниям в 8 класс

ШИФР заполняет ОКО.

задание	1	2	3	4	5	6	7
баллы							
подпись							

Макс. 50 баллов

**1. БЛИЦ-ЭРУДИТ.** *Максимум 8 баллов. За каждый правильный ответ выставляется 1 балл.*

1.1. Как звали последнего императора Западной Римской империи?

Ответ: **Ромул Август / Ромул Августул / Ромул.**

1.2. Великий греческий поэт, которому приписывается авторство эпических поэм «Илиада» и «Одиссея».

Ответ: **Гомер.**

1.3. Каким словосочетанием назывались события во Франции с 23 на 24 августа 1572 года, в результате которых погибло около 30 тысяч местных протестантов?

Ответ: **Варфоломеевская ночь.**

1.4. Укажите настоящее имя Чингисхана

Ответ: **Темучин / Темуджин.**

1.5. Укажите количество университетов в России, открытых до начала правления Петра Великого?

Ответ: **0.**

1.6. На какой реке в 1019 году войска Ярослава Мудрого разгромили отряды Святополка Окаянного, а в 1068 году половцы уничтожили рать Ярославичей?

Ответ: **Альта.**

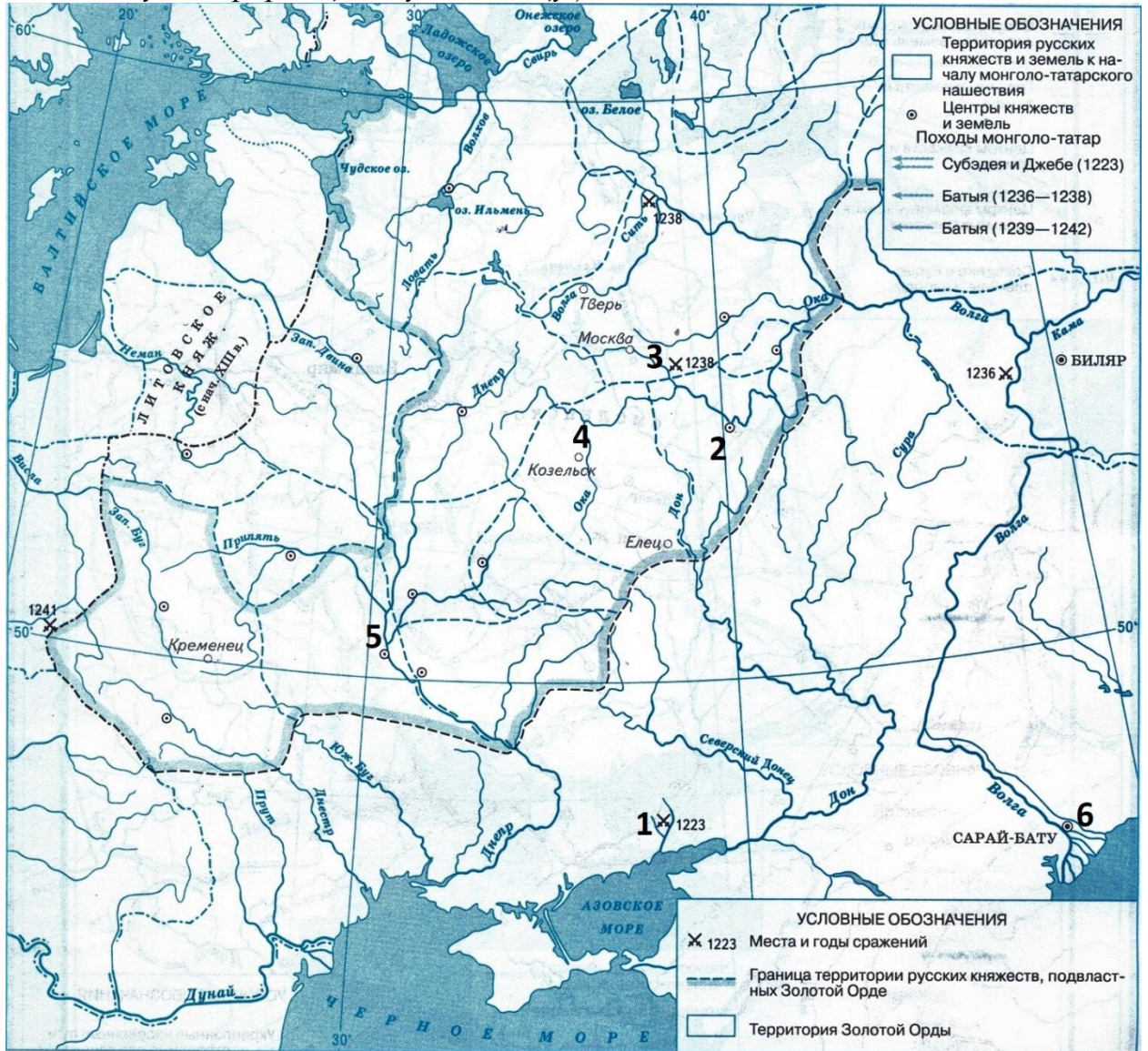
1.7. Укажите любой русский город, откуда в качестве символического наказания представители власти увозили колокол

Ответ: **Новгород (Великий Новгород), Псков или Углич.**

1.8. Как по версии, выдвинутой правительством Бориса Годунова, и, поддерживаемой многими российскими историками, на самом деле звали Лжедмитрия I?

Ответ: **Григорий Отрепьев.**

**2. РАБОТА С КАРТОЙ.** Максимум 6 баллов (по 1 баллу за правильно отмеченную информационную единицу)



Отметьте цифрами:

1 – битву на реке Калке;

2 – Рязань;

3 – под Коломной;

4 – город, прозванный монголами «злым»;

5 – город, который оборонял воевода Дмитр;

6 – столицу Золотой Орды.

**3. КТО КОМУ КЕМ ПРИХОДИТСЯ?** *Максимум 10 баллов (по 2 балла за каждый правильный ответ)*



3.1. Изображённый на иллюстрации человек ключнице княгини Ольги Малуше

Ответ: **Сыном.**

3.2. Изображённый на иллюстрации человек князьям Глебу Рязанскому и Ярославу Мудрому

Ответ: **Отцом.**

3.3. Изображённый на иллюстрации человек князю Святославу Игоревичу

Ответ: **Сыном.**



3.4. Изображённый на иллюстрации человек Ивану III Великому

Ответ: **Внуком.**

3.5. Изображённый на иллюстрации человек Марии Темрюковне, Марфе Собакиной и Анне Колтовской

Ответ: **Мужем.**

**4. РАБОТА С ТАБЛИЦЕЙ.** *Максимум 6 баллов. По 1 баллу за каждый верно указанный пропущенный элемент. Ответы необходимо вписывать прямо в ячейки к цифрам.*

Событие	Дата	Участник события (любой)	Итог события
Соляной бунт	<b>1648</b> год	<b>Царь Алексей Михайлович, Борис Морозов, Леонтий Плещеев, Назарий Чистой, Пётр Траханиотов – любой</b>	Пожар в Москве, основные требования восставших удовлетворены, в следующем году созывается Земский Собор.

		засчитывается.	
<b>Тридцатилетняя война</b>	1618-1648 гг.	А. Валленштейн	<b>Вестфальский мир, поражение Католической лиги, победа Евангелической лиги, любое территориальное либо геополитическое изменение.</b>
<b>Вечный мир с Польшей</b>	<b>1686 год</b>	В. Голицын	Польша отказывается от претензий на Киев, Россия входит в Священную лигу и обязуется поддерживать союзников в войне с Османской империей.

**5. ЛОГИЧЕСКИЕ и АНАЛИТИЧЕСКИЕ ЗАДАНИЯ.** *Максимум 10 баллов. Вам даны логические цепочки. Необходимо указать лишний элемент в цепочке и объяснить, почему Вы его выбрали. 1 балл выставляется за верное указание исключения, ещё 1 балл – за объяснение повода для исключения элемента.*

5.1. 1317 г., 1377 г., 1378 г., 1395 г.

**Ответ: 1395 год лишний. В этом году между монгольскими и русскими войсками не было битв.**

5.2. 1583 г., 1595 г., 1617 г., 1662 г.

**Ответ: 1662 год лишний. В этом году не был (о) подписан (о) мир / перемирие России и Швеции; не заканчивались русско-шведские войны.**

5.3. Думные дворяне, стрельцы, думные дьяки, бояре, окольные.

**Ответ: Стрельцы лишние. Они не входили в состав Боярской думы.**

5.4. Закупы, мещане, рядовичи, смерды, тиуны.

**Ответ: Мещане лишние. Они не входили в социальную структуру Древней Руси; они не упоминаются в «Русской Правде».**

5.5. Тиверцы, уличи, голядь, вятичи, словене ильменские.

**Ответ: Голядь – лишнее племя. По своему происхождению оно не славянское, а литовское.**

**6. МИРОВАЯ ХУДОЖЕСТВЕННАЯ КУЛЬТУРА.** *Максимум – 5 баллов. По 1 баллу за каждый верный ответ.*



6.1. Укажите название картины, представленной на иллюстрации.  
Ответ: **«Сикстинская Мадонна».**

6.2. Отметьте автора картины.  
Ответ: **Рафаэль Санти / Рафаэль.**

6.3. Укажите любую другую работу этого великого мастера.  
Ответ: **Любая правильно указанная работа Рафаэля. Например: фрески «Афинская школа», «Диспут», «Парнас», картины «Мадонна со щеглом», «Преображение», «Сон рыцаря», «Святое семейство» и**

**другие.**




6.4. Как зовут эпического героя древнего эпоса, чья статуя представлена на иллюстрации?  
Ответ: **Гильгамеш.**

6.5. Каково оригинальное название этого древнего эпоса ?  
Ответ: **«О всё видавшем».** Ответ «Эпос о Гильгамеше» не засчитывается.

**7. ОТЕЧЕСТВЕННАЯ ХУДОЖЕСТВЕННАЯ КУЛЬТУРА.** *Максимум – 5 баллов. По 1 баллу за каждый верный ответ.*

*Укажите названия русских храмов и место их возведения. Ответ засчитывается только с указанием расположения в конкретном населённом пункте, где был построен данный объект!*




А




Б



В



Г



Д

**А: Успенский собор во Владимире.**

**Б: Церковь Вознесения в Коломенском.**

**В: Благовещенский собор Кремля; Москва.**

**Г: Церковь Покрова в Филях.**

**Д: Собор Святой Софии в Новгороде.**