

## Задание по истории к вступительным испытаниям в 8 класс

\_\_\_\_\_ ШИФР заполняет ОКО.

задание	1	2	3	4	5	6	7	8
баллы								
подпись								

Макс. 50 баллов

1. БЛИЦ-ЭРУДИТ. *Максимум 8 баллов. За каждый правильный ответ выставляется 1 балл.*

1.1. Назовите селение, у которого произошло генеральное сражение между персами и армией Александра Македонского в 331 г. до н.э.:

**Ответ: Гавгамелы**

1.2. Напишите имя и фамилию последнего императора Западной Римской империи

**Ответ: Ромул Август (Флавий Ромул Август, Ромул Августул)**

1.3. Как звали испанского мореплавателя, совершившего первое известное кругосветное путешествие?

**Ответ: Фернан Магеллан (Эрнандо де Магальянес)**

1.4. Укажите название крестового похода, направленного на искоренение еретиков в Южной Франции (Лангедок):

**Ответ: Альбигойский (Катарский, Альбигойские войны)**

1.5. Как назывался закон, ограничивающий проценты по ссудам в Древней Руси, принятый в 1113 г.?

**Ответ: Устав о резах (Устав Владимира Мономаха)**

1.6. Напишите год присоединения к Москве Новгородской республики:

**Ответ: 1478 г.**

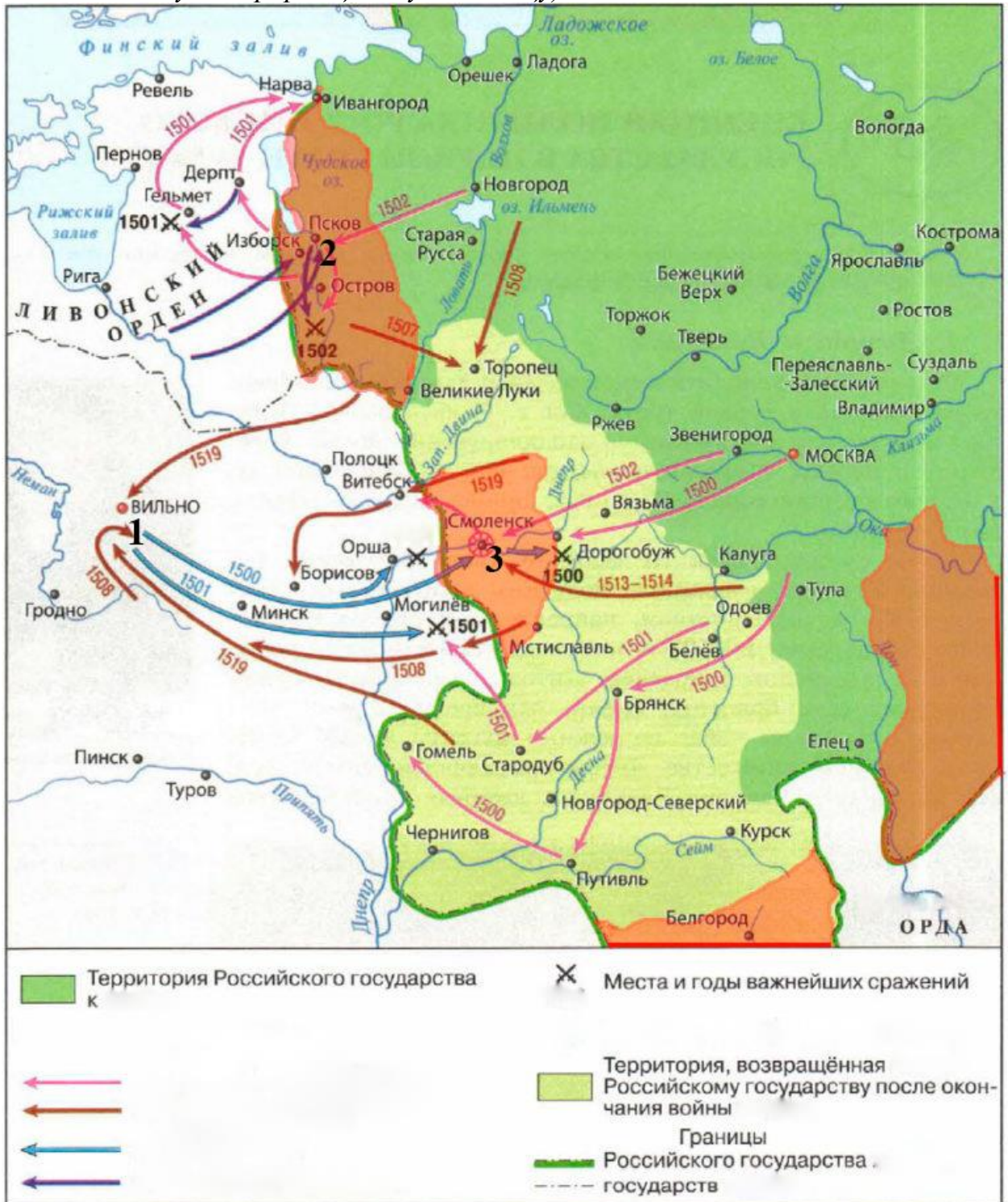
1.7. Назовите имя и отчество полоцкого князя, получившего власть в Киеве в 1068 г.:

**Ответ: Всеслав Брючиславич**

1.8. Напишите название реки, на берегах которой в 1500 г. войско Московского князя разбило литовский отряд и пленило Константина Острожского:

**Ответ: Ведроша (Ведрошь)**

2. РАБОТА С КАРТОЙ. Максимум 6 баллов (по 1 баллу за правильно отмеченную информационную единицу).



2.1. С какими государствами Россия ведет войну в данный период?

Ответ: Ливонский орден и Великое княжество Литовское (Литовское княжество)

2.2. Назовите великого московского князя, при котором начались боевые действия, изображенные на карте. В ответе укажите его имя и порядковый номер.

**Ответ: Иван Третий (Иван III)**

2.3. Назовите изображенное на карте государство, которое было побеждено московским князем в 1480 г.

**Ответ: Большая Орда**

2.4. Цифрой 1 отметьте столицу Великого княжества Литовского

2.5. Цифрой 2 отметьте город, мирно присоединенный к Великому княжеству Московскому в 1510 г.

2.6. Цифрой 3 отметьте город, взятый московскими войсками после долгой осады в 1514 г.

3. КТО КОМУ КЕМ ПРИХОДИТСЯ? *Максимум 5 баллов (по 1 баллу за каждый правильный ответ).*

А.



3.1. Кем приходится изображенный А изображенной Б?

**Ответ: отцом**

3.2. Кем приходится изображенный А первому всероссийскому императору Петру I?

**Ответ: отцом**

3.3. Кем приходится изображенная Б первому всероссийскому императору Петру I?

**Ответ: сестрой (сводной сестрой)**

Б.



3.4. Кем приходится изображенный А императрице Елизавете Петровне?

**Ответ: дедом**

3.5. Кем приходится изображенная Б императрице Анне Иоанновне?

**Ответ: теткой (тетей)**

**4. РАБОТА С ТАБЛИЦЕЙ.** *Максимум 6 баллов. По 1 баллу за каждый верно указанный пропущенный элемент. Вставьте недостающие элементы в таблицу. Отсутствующие элементы таблицы необходимо вписывать прямо в ячейки к цифрам.*

Событие	Дата	Участник события (любой)	Итог события
Русско-византийская война	941–944	<b>Игорь Рюрикович (князь Игорь, Игорь Старый), Роман I Лакапин, Варда Фока Старший</b>	<b>Поражение Древней Руси, заключение русско-византийского договора 944 г.: были введены пошлины против русских купцов, русские купцы могли жить и торговать в Константинополе по полгода, но не могли зимовать, Древняя Русь должна была оказывать помощь Византии в защите Корсуни от кочевников.</b>
<b>Четвертый Крестовый поход</b>	1202–1204	Филипп II Август, Балдуин I Фландрский, Бонифаций I Монферратский, Иннокентий III, Энрико Дандоло, Алексей III Ангел, Алексей V Дука	<b>Захват и разграбление крестоносцами Задара, захват крестоносцами Константинополя, ликвидация Византийской империи, формирование Латинской империи. Греки отступили в Малую Азию, сформировав Никейскую и Трапезундскую империи.</b>
Русско-польская война	1654–1667	<b>Ян II Казимир, Алексей Михайлович Романов, Богдан Хмельницкий, Иван Выговский, Юрий Хмельницкий, Карл X Густав, Петр Дорошенко</b>	<b>Заключение Андрусовского перемирия в 1667 г.: Речь Посполитая признавала переход к России Левобережной Украины (Левобережья Днепра), Россия присоединяла Смоленск, Чернигов, Стародуб (Северскую землю), Россия должна была в течение 2 лет вывести войска из Киева, Запорожская Сечь переходила под русско-польское управление. Перемирие было заключено на 13,5 лет.</b>

**5. ЛОГИЧЕСКИЕ и АНАЛИТИЧЕСКИЕ ЗАДАНИЯ.** *Максимум 10 баллов. Вам даны логические цепочки. Необходимо указать лишний элемент в цепочке и объяснить, почему Вы его выбрали. 1 балл выставляется за верное указание исключения, ещё 1 балл – за объяснение повода для исключения элемента. В случае неправильного выбора элемента объяснение не оценивается, даже если оно правильное.*

**5.1.** 1478, 1485, **1503**, 1510, 1521 гг.

**Ответ:** в **1503 г.** было заключено Благовещенское перемирие и присоединены территории (Чернигов, Гомель, Новгород-Северский, Брянск), отобранные у Великого княжества Литовского, в других случаях к Московскому княжеству присоединялись независимые русские государства

**5.2.** Юрий Долгорукий, **Ярослав Осмомысл**, Андрей Боголюбский, Всеволод Большое Гнездо

**Ответ:** **Ярослав Осмомысл** был правителем Галицкого (Галицко-Волынского) княжества, в то время как остальные князья являлись правителями Владимиро-Суздальского княжества

**5.3.** Даниил Московский, Дмитрий Донской, Василий I, Василий Темный

**Ответ:** Даниил Московский не имел ярлык на великое княжение (не был великим князем), в отличие от других представленных князей

**5.4.** Прокопий Ляпунов, Иван Болотников, Истома Пашков, Дмитрий Трубецкой

**Ответ:** Дмитрий Трубецкой не был лидером восстания Ивана Болотникова 1606 – 1607 гг., в отличие от остальных представленных деятелей

**5.5.** Битва на реке Стугне, битва на реке Орели, **битва при Листвене**, битва при Салнице

**Ответ:** битва при Листвене была сражением между русскими князьями (Ярославом Мудрым и Мстиславом Тмутараканским), в то время как другие события были сражениями русских князей (русских дружин, русских войск) против половцев

**6. «УТКА».** *Максимум 5 баллов. Перед Вами – текст на историческую тематику. Внимательно прочитайте его и найдите 2 фактические ошибки. Исправьте их.*

В 1670–1671-м годах в Московском государстве разразилось восстание под руководством Ивана Болотникова. Основной его причиной была установившаяся система крепостного права и усиливавшийся феодальный гнет. Крестьяне составляли основу войска восставших. Помимо крестьян, ядром войска выступали донские дворяне, к которым по происхождению относился и сам лидер восставших. Царские войска жестоко подавили восстание, а его лидеры были казнены.

**Ответ: Иван Болотников – Степан Разин, донские дворяне – донские казаки**

7. МИРОВАЯ ХУДОЖЕСТВЕННАЯ КУЛЬТУРА. *Максимум – 5 баллов. По 1 баллу за каждый верный ответ.*



7.1. В каком городе находится данный архитектурный ансамбль?


**Ответ: Рим**

7.2. Как называется данное здание:

**Ответ: Колизей (амфитеатр Флавиев)**

7.3. При каком правителе было построено данное здание:

**Ответ: Тит Флавий Веспасиан (Веспасиан)**



7.4. Как называется данная фреска Рафаэля Санти?


**Ответ: Афинская школа**

7.5. В каком здании она расположена?

**Ответ: Апостольский дворец (дворец Сикста V)**

**8. ОТЕЧЕСТВЕННАЯ ХУДОЖЕСТВЕННАЯ КУЛЬТУРА.** *Максимум – 5 баллов. По 1 баллу за каждый верный ответ.*

*Укажите авторство представленных ниже культурных объектов.*




А




Б



В



Г



Д

**А: Иларион**

**Б: Феофан Грек**

**В: Дионисий**

**Г: Барма Постник (Постник Яковлев, Барма и Постник)**

**Д: псковские мастера Кривцов и Мышкин (псковские мастера)**