

Задания для поступающих в 10 социально-гуманитарный класс по истории (2016 г.)

Задание 1. Тест по всеобщей истории. Максимум **10** бонусов.

1. Кто правил в Византии в период крещения Руси?
а/ Василий II Тёмный;
б/ Василий II Болгаробойца;
в/ Константин Багрянородный
2. Под каким лозунгом в октябре 1789 года состоялся поход голодных женщин на Версаль?
а/ «После нас хоть потоп!»
б/ «Мир – хижинам, война – дворцам!»
в/ «Хлеба и зрелищ!»
г/ «Да здравствует король!»
д/ «Отечество в опасности!»
е/ «Равнение на Бонапарта!»
3. Кого называли «отцом комедии»?
а/ Геродота; в/ Эзопа;
б/ Гиппократ; г/ Аристофана
4. Кто такие «тайпины»?
а/ участники крестьянского движения в Китае
б/ представители воинского сословия в Японии
в/ члены религиозной секты в Индии
г/ предводители опиумных войн в Азии
5. Когда появилось такое название страны как «Великобритания»?
а/ в 1848 г при королеве Виктории в связи с принятием закона, объявившего Индию колонией Англии
б/ в 1689 г. в ходе «Славной революции» и принятия «Билля о правах»
в/ в 1707 г после утверждения унии между Англией и Шотландией
6. Что такое импичмент?
а/ торжественное вступление в должность
б/ процедура отставки с должностного поста
в/ отрешение от должности из-за недоверия
7. Программа СОИ – стратегической оборонной инициативы США связана:
а/ с инициативой Барака Обамы по оснащению армии роботами-аватарами;
б/ с идеей Джимми Картера по размещению крылатых ракет «Томагавк» в Европе;
в/ с планом Рональда Рейгана создания противоракетной обороны с элементами космического базирования
8. Где погиб, но одержал победу над франко-испанским флотом знаменитый английский адмирал Горацио Нельсон?
а/ в Ютландском морском сражении;
б/ в Трафальгарском морском бое;
в/ в сражении у мыса Гангут;
г/ на мысе Канаверал
9. Кто одержал победу на последних президентских выборах во Франции?
а/ Н.Саркози; б/ Ф.Олланд; в/ Д.Вильпен
10. Какой символ для обозначения своей партии используют американские демократы?
а/ слон; г/ мартышка;
б/ осёл; д/ косолапый
в/ козёл; мишка

Задание 2. Историческая задача.

/По 1 бонусу за информац.единицу/
Драматург А.Н.Островский вложил в уста одного из героев, в честь которого был поставлен этот памятник, призыв: «Не пожалеем наших достояний! Не пощадим казны и животов! Мы продадим дворы свои и дома! А будет мало: жён, детей заложим!» Кто эти люди? Юбилей какого события, отмечается в 2017 г?

Фото памятника К.Минину и Д.Пожарскому работы Мартоса И.П.
I

Задание 3. Работа с планом сражения.
/По 1.бонусу за информационную единицу/

Помещён план штурма
о. Корфу Ф.Ушаковым

Как называются эти острова и почему они
/по словам Наполеона/ для Франции были
важнее Италии? _____

Где находилась главная цитадель и когда
состоялся её штурм, ставший триумфаль-
ным завершением первого столетия боево
го пути русского флота? _____

Кого называли «морским Суворовым» и за
что он был объявлен почётным президен-
том этих островов? _____

Задание 4. Кто так сказал? Проставьте нужную цифру. Максимум **10** бонусов..

- _____ «Битва на Москве-реке была одной из тех битв, где
были проявлены наибольшие достоинства и достигнуты
_____ наименьшие результаты»
_____ «За нами Москва! Умирать всем, но ни шагу назад!»
_____ «Холостых залпов не давать и патронов не жалеть!»
_____ «Живи и жить давай другим, но только не за счёт другого»
_____ «Не неравенство тягостно, а зависимость»
_____ «Направо! Кругом! В Сибирь марш!»
_____ «Земля наша велика и обильна, но порядка в ней нет»
_____ «У нас страна огромных возможностей не только для
_____ преступников, но и для государства»
_____ «Искусство начинается там, где начинается чуть-чуть»
_____ «Пудра не порох, букли – не пушки, косы – не тесаки,
_____ и все мы не немцы, а русаки»

1. Генерал-губерна-
тор Петербурга
Трепов Д.Ф.
2. Наполеон
3. Суворов А.В.
4. Павел I
5. Карл Брюллов
6. Державин Г.А.
7. Дохтуров Д.С.
8. славяне, пригла-
шавшие варягов
на Русь
9. Вольтер
10. Путин В.В.

Задание 5. Работа с таблицей. Максимум **10** бонусов.. Заполните пропуски:

Событие	Время	Кто воевал	С кем?	Результат:
Битва на реке Сить	?	?	с Батыем	?
?	?	?	с Марфой- Посадницей	?
Поход Дюдени	1293-1294 годы	Андрей Городецкий	с братом Дмитрием	?
Русско - турецкая война	1877-1878 годы	?	с султаном Абдул-Ха- мидом-II	?

помещён портрет
Павла Пестеля

Задание 6. Политические портреты.

Максимум **20** бонусов

Помещён портрет
Никиты Муравьёва

Выпишите нужное к каждому портрету:

1. Автор «Русской правды»
2. Мечтал об отмене крепостного права
3. Сторонник конституционной монархии
4. Желал установить республику в России
5. Член масонской ложи.
6. Находился в Чите и Иркутске на каторге
7. Жена последовала за ним в Сибирь
8. Закончил жизнь на виселице.

Кто это? Ф.И.О.:

9. Лидер «Северного общества»
10. Руководитель «Южного общества»
11. Думал поддержать народников
12. За перенос столицы в Н.Новгород

Кто это? Ф.И.О.:

Нужное: _____

Нужное: _____

Задание 7. Работа на знание исторических источников. Максимум **25** бонусов.

А. Составьте словарь, выписав к каждой категории соответствующую цифру.

- | | |
|---------------|---|
| ___ смерд | 1. разорившийся общинник, обрабатывающий ссуду / долг/ |
| ___ людин | 2. сборщик торговых пошлин |
| ___ закуп | 3. свободный общинник, имеющий дом и хозяйство |
| ___ челядин | 4. управляющий домом господина /дворецкий/ |
| ___ вирник | 5. управляющий всем хозяйством князя |
| ___ тиун | 6. сборщик штрафов |
| ___ огнищанин | 7. должник, утративший право распоряжения своим имуществом |
| ___ мытник | 8. раб, не имеющий хозяйства и дома, работает на поле господина |
| ___ рядович | 9. раб, не имеющий хозяйства и дома, работает в доме господина |
| ___ холоп | 10. человек, свободно обрядившийся на какую-либо работу |

Какой документ связан с таким определением статуса этих социальных групп населения? _____ Когда он был составлен? _____

При ком? _____ Кто вносил дополнения? _____

Б. Соотнесите цифру и букву, отбросив лишнее:

- | | | |
|-------------------------------------|--------------------|---|
| ___ «Табель о рангах» | 1. Екатерина II | а/ право получать дворянство за заслуги |
| ___ «Покон вирный» | 2. Пётр Первый | б/ отказ от обязательной службы дворян |
| ___ «Жалованная грамота дворянству» | 3. Алексей Романов | в/ удар по местничеству |
| ___ «Уложение о службе» | 4. В. Мономах | г/ оформление крепостного права |
| ___ «Соборное уложение» | 5. Александр II | д/ отмена крепостного права |
| | 6. Иван Грозный | е/ ограничение ростовщического%. |

Задание 8. Восстановите хронологию, определите событие и год, 4

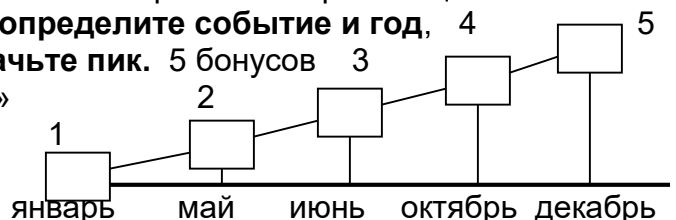
___ Образование первых Советов **обозначьте пик.** 5 бонусов 3

___ Восстание на броненосце «Потёмкин»

___ Вооружённое восстание в Москве

___ Всеобщая политическая стачка

___ «Кровавое воскресенье»



Задание 9. История на кончике кисти и пера.
/по 1 бонусу за информац. единицу/

Помещена репродукция
картины И.Е.Репина
«Заседание Госсовета»

1. Картина И.Е.Репина «Торжественное заседание Государственного совета» посвящена юбилею учреждения этого органа. К какой официальной дате тогда было приурочено полотно?
а/ к созданию «Непременного Совета» в 1801 г.
б/ к проекту Сперанского М. и Манифесту Александра I «Образование Госсовета» в 1810 г.
в/ к появлению Советов рабочих, солдатских и крестьянских депутатов в революции 1917г.
г/ к указу Б.Ельцина о создании Госсовета РФ 1991 года

2. Почему создание Госсовета не совпадает с датой юбилея запечатлённого на картине художника? Ваша версия: _____

3. Кто из изображённых членов Госсовета мог удостоиться такой эпиграммы?
«Сановный блюститель духовного здравия, Исполненный лести, коварства и злобы Ты, рабства, бесправья, гонений ревнитель Наушник без чести, скопец без утробы Кощей православия!» _____

4. Какие функции выполнял Госсовет? а/ это орган конституционного суда и контроля;

б/ законсовещательный орган; в/ орган высшей исполнительной власти

3. Вычеркните из списка членов Госсовета лишние фамилии: Кочубей В., Новосильцев Н., Желябов А., Аракчеев А., Шостакович Д., Победоносцев К., Ключевский В.

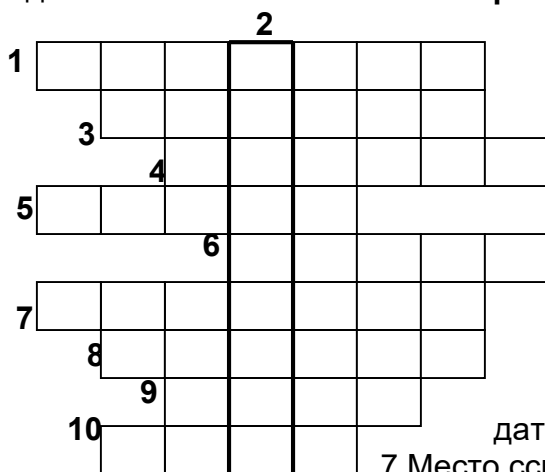
Задание 10. Умеете ли вы обобщать? /по 1 бонусу за информационную единицу/
Что объединяет даты: 988, 1551, 1654 _____

Какие события мировой и отечественной истории связаны с 1572 г? _____

Полицейское государство – это: _____

Реформистское течение в российской социал-демократии, возникшее в результате раскола РСДРП в 1903 году, называется _____

Задание 11. Знаете ли вы свой край? Максимум 10 бонусов.



По вертикали: 2. Изобретение уральца Артамонова А.Е., на котором он совершил в конце XVIII века путешествие в Москву;

По горизонтали: 1 Предприниматель, скупивший под носом у Никиты Демидова, доставшиеся по суду его брату Прокофию Демидову, Невьянский, Верх-Исетский, Ирбитский и др. заводы; 3. Город-родина создателя автомата Калашникова; 4. Герой Гражданской войны на Урале, награждён орденом Красного Знамени №1, стал маршалом СССР; 5. Наш земляк, создатель первого трактора; 6. Город-лётчик на Урале;

7 Место ссылки декабристов в нашем крае. 8. Режиссёр фильма «Угрюм-река»; 9. Богатство хозяйки гор в сказках Бажова; 10. Уральский скульптор.

Задание 12. Языческая культура. Максимум 25 бонусов.

Соотнесите страну и сферу покровительства языческих божеств:

_____	Бог торговли, счёта	А. Индия	Г. Древняя Русь	1. Эскулап	4. Гефест	7. Агни
_____	Бог врачевания	Б. Греция	В. Древний Рим	2. Меркурий	5. Сварог	8. Индра,
_____	Бог огня			3. Асклепий	6. Гермес	9. Велес

Подчеркните, какие чудеса относились к семи знаменитым «чудесам света», описанным Антипатром из Фессалоник:

«Небесное дерево» в Токио	Водопад Виктория	Небоскрёб Бурдж Дубай
Сады Семирамиды в Вавилоне	Лабиринт в Иерихоне	Александрийский маяк
Статуя Христа в Рио-де-Жанейро	Пирамида Хеопса	Стена плача в Иерусалиме

Поясните, с каким сюжетом связан этот рисунок на греческой вазе?

Помещён рисунок с греческой амфоры битва Геракла с лернейской гидрой

Задание 13. К какой эпохе относятся эти шедевры, открытия и изобретения? Максимум 10 бонусов.

1. «Дмитрий Солунский» - мозаика 2. Кругосветка Фернана Магеллана 3. Нанотехнологии 4. Открытие Австралии Дж. Куком 5. Появление ветряных мельниц 6. код Л. да Винчи 7. Открыты кварки 8. Первые спички 9. Первые мартены 10. Первые домны	Древняя Русь IX – XII века	Эпоха Средневековья до XIV века	Эпоха Возрождения в Европе до XVI века	Эпоха Нового времени с XVII по XIX век	Новейшее время XX – XXI век

--	--	--	--	--

Задание 14. Архитектура и живопись.
Максимум 35 бонусов.

Фото храма
 Покров на Нерли

Обведите кружком то, что относится к этому сооружению:

1. Это храм, в нишу которого вделан священный Чёрный камень /кааба/– окаменелый ангел, который в день страшного суда сможет выступить в защиту мусульман;
2. По легенде белый камень для постройки церкви был вывезен из покорённого русичами Булгарского царства;
3. Это первая церковь Покрова Богородицы на Руси;
4. Это храм Покрова на Рву /храм Василия Блаженного/;
5. Это православный храм Покрова на Нерли, построенный Андреем Боголюбским в память о погибшем сыне Изяславе;
6. Храм построен на насыпном острове, с фундаментом выше 5 м в глубину;
7. Храм крестово-купольный; 8 Собор готического стиля; 9. Это языческое капище;
10. Это шатровая постройка; 11. Это буддийская святыня; 12. Это Софийский собор.

Помещена репродукция картины Казимира Малевича «Девушки в поле»

Аналитическая работа. Перед вами работы трёх авторов. К каждой работе все вопросы.

1. Что такое фреска? _____
 Отметьте фреску соответствующей цифрой.
2. Кто работал в стиле супрематизма?
3. Кого из авторов называли основоположником бытового жанра в русской живописи?
4. Кто из авторов: а/ рисовал квадраты; б/ писал иконы; в/ стал «отцом русской карикатуры»

Ответ: _____

5. Кто был учеником Боровиковского В.Л.?
6. Чьё творчество аристократы сравнивали с «кучерской музыкой» Михаила Глинки?
7. В какое время творили эти живописцы?
 а/.XVII в.; б/.нач.XIX в.; в/.нач.XX в.
8. Для каких работ относятся характеристики:
 а/ авангардизм; б/ становление реализма;
 в/ начало процесса обмирщения культуры.
9. Допишите к ответам какие ещё картины этих художников вам известны?

Помещена репродукция фрески Гурия Никитина из ц.Ильи Пророка в Ярославле «Жатва»

Ответ: _____

Помещена репродукция

картины А.Г.Венецианова «Жнецы»

Составьте правильные пары, отбросив лишнее и поместив соответствующие цифры, буквы к ответам:

А/ «Девушки в поле»

І. Гурий Никитин

Б/ « Жатва»

ІІ. Василий Перов

В/ «Жнецы»

ІІІ. Казимир Малевич

Г/ «Троица»

ІV. А.Г.Венецианов

Д/ «Рабочий и колхозница» V.Зураб Церетелли

Лето», «Гумно», «Весна на пашне», «Пастушок»

Ответ: _____

Ключи к заданиям для поступающих в 10 социально - гуманитарный класс по истории (2016 г.)

Задание 1. **Тест по всеобщей истории.** Максимум **10** бонусов.

1. Кто правил в Византии в период крещения Руси?
а/ Василий II Тёмный;
б/ Василий II Болгаробойца;
в/ Константин Багрянородный.
2. Под каким лозунгом в октябре 1789 года состоялся поход голодных женщин на Версаль?
а/ «После нас хоть потоп!»;
б/ «Мир –хижинам, война – дворцам!»;
в/ «Хлеба и зрелищ!»;
г/ «Да здравствует король!»;
д/ «Отечество в опасности!»;
е/ «Равнение на Бонапарта!».
3. Кого называли «отцом комедии»?
а/ Геродота; в/ Эзопа;
б/ Гиппократ; г/ **Аристофана.**
4. Кто такие «тайпины»?
а/ участники крестьянского движения в Китае;
б/ представители воинского сословия в Японии;
в/ члены религиозной секты в Индии;
г/ предводители опиумных войн в Азии.
5. Когда появилось такое название страны как «Великобритания»?
а/ в 1848 г при королеве Виктории в связи с принятием закона, объявившего Индию колонией Англии;
б/ в 1689 г. в ходе «Славной революции» и принятия «Билля о правах»;
в/ в 1707 г после утверждения унии между Англией и Шотландией.
6. Что такое импичмент?
а/ торжественное вступление в должность;
б/ процедура отставки с должностного поста;
в/ отрешение от должности из-за недоверия.
7. Программа СОИ – стратегической оборонной инициативы США связана:
а/ с инициативой Барака Обамы по оснащению армии роботами-аватарами;
б/ с идеей Джимми Картера по размещению крылатых ракет «Томагавк» в Европе;
в/ с планом Рональда Рейгана создания противоракетной обороны с элементами космического базирования.
8. Где погиб, но одержал победу над франко-испанским флотом знаменитый английский адмирал Горацио Нельсон?
а/ в Ютландском морском сражении;
б/ в Трафальгарском морском бое;
в/ в сражении у мыса Гангут;
г/ на мысе Канаверал.
9. Кто одержал победу на последних президентских выборах во Франции?
а/ Н. Саркози; **б/ Ф. Олланд;** в/ Д. Вильпен.
10. Какой символ для обозначения своей партии используют американские демократы?
а/ слон; г/ мартышка;
б/ осёл; д/ косолапый
в/ козёл; мишка.

Задание 2. **Историческая задача.**

/По 1 бонусу за информац. единицу/
Драматург А.Н. Островский вложил в уста одного из героев, в честь которого был поставлен этот памятник, призыв: «Не пожалеем наших достояний! Не пощадим казны и животов! Мы продадим дворы свои и дома! А будет мало: жён, детей заложим!»
Кто эти люди? Юбилей какого события

Фото памятника К. Минину и Д. Пожарскому работы Мартоса И.П.

отмечается в 2017 г? **200 лет памятнику героям II народного ополчения К.Минину Д.Пожарскому работы Мартоса И.П.**
 Задание 3. **Работа с планом сражения.**
 /По 1.бонусу за информационную единицу/

Помещён план штурма о. Корфу Ф.Ушаковым

Как называются эти острова и почему они /по словам Наполеона/ для Франции были важнее Италии? **Ионические острова в планах борьбы за мировое господство могли быть базой для высадки в Египет**
 Где находилась главная цитадель и когда состоялся её штурм, ставший триумфальным завершением первого столетия боевого пути русского флота? **Крепости о.Корфу и укрепления о.Видо с 18-20.02.1799 года**
 Кого называли «морским Суворовым» и за что он был объявлен почётным президентом этих островов? **Ф.Ф.Ушаков – освободитель и составитель конституции 7 островов**

Задание 4. **Кто так сказал?** Проставьте нужную цифру. Максимум **10** бонусов.

- «Битва на Москве-реке была одной из тех битв, где были проявлены наибольшие достоинства и достигнуты **2** наименьшие результаты»
7 «За нами Москва! Умирать всем, но ни шагу назад!»
1 «Холостых залпов не давать и патронов не жалеть!»
6 «Живи и жить давай другим, но только не за счёт другого»
9 «Не неравенство тягостно, а зависимость»
4 «Направо! Кругом! В Сибирь марш!»
8 «Земля наша велика и обильна, но порядка в ней нет»
 «У нас страна огромных возможностей не только для **10** преступников, но и для государства»
5 «Искусство начинается там, где начинается чуть-чуть»
 «Пудра не порох, букли – не пушки, косы – не тесаки, **3** и все мы не немцы, а русаки»

- 1.Генерал-губернатор Петербурга Трепов Д.Ф.
2. Наполеон
3. Суворов А.В.
4. Павел I
5. Карл Брюллов
6. Державин Г.А.
7. Дохтуров Д.С.
- 8.славяне, приглашавшие варягов на Русь
9. Вольтер
10. Путин В.В.

Задание 5. **Работа с таблицей.** По 1 бонусу за инф. Ед.. Заполните пропуски:

Событие	Время	Кто воевал	С кем?	Результат:
Битва на реке Сить	март 1238 года	Северо-Вост.Русь	с Батыем	Юрий II Всеволодович князь Влад-Сузд. погиб
Поход на Новгород	1471 год	Иван III	с Марфой-Посадницей	Новгородцы проиграли С1478 республики нет
Поход Дюдени	1293-1294 годы	Андрей Городецкий	с братом Дмитрием	Дюденева рать разорила Русь, ярлык Андрею

Русско - турецкая война	1877-1878 годы	император Александр II Освободитель	с султаном Абдул-Хамидом-II	Сан-Стефанский мир давал свободу Балканам, но Берлинский конгресс ограничил её.
-------------------------	-------------------	--	-----------------------------	--

помещён портрет Павла Пестеля

Задание 6. **Политические портреты.**

Максимум **20** бонусов

Помещён портрет Никиты Муравьёва

Выпишите нужное к каждому портрету:

1. Автор «Русской правды»
2. Мечтал об отмене крепостного права
3. Сторонник конституционной монархии
4. Желал установить республику в России
5. Член масонской ложи.
6. Находился в Чите и Иркутске на каторге
7. Жена последовала за ним в Сибирь
8. Закончил жизнь на виселице.

Кто это? Ф.И.О.:

Пестель Павел – Иванович 1,2,4,5,8, 10,12

9. Лидер «Северного общества»
10. Руководитель «Южного общества»
11. Думал поддержать народников
12. За перенос столицы в Н.Новгород

Кто это? Ф.И.О.:

Муравьёв Никита Михайлович 2,3,5, 6,7,9

Задание 7. **Работа на знание исторических источников.** Максимум **25** бонусов.

А. Составьте словарь, выписав к каждой категории соответствующую цифру.

- | | |
|--------------------|---|
| <u>7</u> смерд | 1. разорившийся общинник, обрабатывающий ссуду / долг / |
| <u>3</u> людин | 2. сборщик торговых пошлин |
| <u>1</u> закуп | 3. свободный общинник, имеющий дом и хозяйство |
| <u>9</u> челядин | 4. управляющий домом господина / дворецкий / |
| <u>6</u> вирник | 5. управляющий всем хозяйством князя |
| <u>5</u> тиун | 6. сборщик штрафов |
| <u>4</u> огнищанин | 7. должник, утративший право распоряжения своим имуществом |
| <u>2</u> мытник | 8. раб, не имеющий хозяйства и дома, работает на поле господина |
| <u>10</u> рядович | 9. раб, не имеющий хозяйства и дома, работает в доме господина |
| <u>8</u> холоп | 10. человек, свободно обрядившийся на какую-либо работу |

Какой документ связан с таким определением статуса этих социальных групп населения? **«Русская правда»** Когда он был составлен? **1015-1019**

При ком? **При Ярославе Мудром** Кто вносил дополнения? **Сыновья, внук**

Б. Соотнесите цифру и букву, отбросив лишнее:

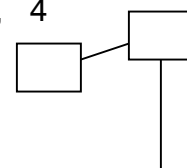
- | | | |
|--------------------------------------|--------------------|---|
| <u>2а</u> «Табель о рангах» | 1. Екатерина II | а/ право получать дворянство за заслуги |
| <u>4е</u> «Покон вирный» | 2. Пётр Первый | б/ отказ от обязательной службы дворян |
| «Жалованная грамота мота дворянству» | 3. Алексей Романов | в/ удар по местничеству |
| <u>1б</u> мота дворянству» | 4. В. Мономах | г/ оформление крепостного права |
| <u>6в</u> «Уложение о службе» | 5. Александр II | д/ отмена крепостного права |
| <u>3г</u> «Соборное уложение» | 6. Иван Грозный | е/ ограничение ростовщического%. |

5

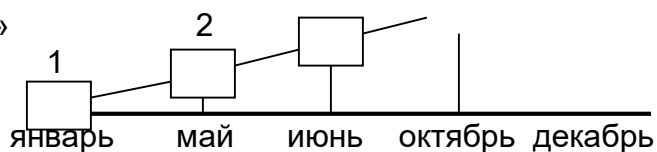
Задание 8. **Восстановите хронологию, определите событие и год,**

2 Образование первых Советов **обозначьте пик**

3



- 3 Восстание на броненосце «Потёмкин»
- 5 Вооружённое восстание в Москве
- 4 Всеобщая политическая стачка
- 1 «Кровавое воскресенье»



Это 1905 год. Начало и наивысший подъём первой русской революции. Пик 4,5

Задание 9. **История на кончике кисти и пера.**
/по 1 бонусу за информац. единицу/

Помещена картина И.Е.Репина
«Заседание Госсовета»

1. Картина И.Е.Репина «Торжественное заседание Государственного совета» посвящена юбилею учреждения этого органа. К какой официальной дате тогда было приурочено полотно?

- а/ к созданию «Непременного Совета» в 1801 г.;
- б/ к проекту Сперанского М. и Манифесту Александра I «Образование Госсовета» в 1810 г.;
- в/ к появлению Советов рабочих, солдатских и крестьянских депутатов в революции 1917г.;
- г/ к указу Б.Ельцина о создании Госсовета РФ 1991 года.

2. Почему создание Госсовета не совпадает с датой юбилея запечатлённого на картине художника? **100-лет отмечали с первой инициативы императора, а не с проекта Сперанского. 1810 год посчитали завершением формирования Госсовета.**

3. Кто из изображённых членов Госсовета мог удостоиться такой эпитафии?

«Сановный блюститель духовного здравия, Исполненный лести, коварства и злобы Ты, рабства, бесправья, гонений ревнитель Наушник без чести, скопец без утробы Кощей православия!» **обер-прокурор Синода Победоносцев Константин.Петрович**

4. Какие функции выполнял Госсовет? а/ это орган конституционного суда и контроля
б/ **законосовещательный орган** в/ орган высшей исполнительной власти

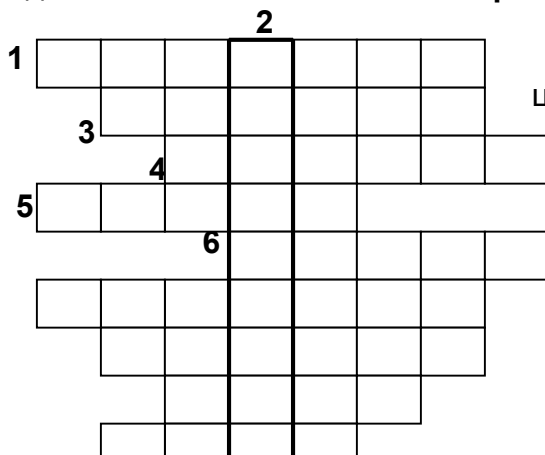
3. Вычеркните из списка членов Госсовета лишние фамилии: Кочубей В., Новосильцев Н., **Желябов А.**, Аракчеев А., **Шостакович Д.**, Победоносцев К., **Ключевский В.**

Задание 10. **Умеете ли вы обобщать?** /по 1 баллу за информационную единицу/
Что объединяет даты: 988, 1551, 1654 **это даты религиозных реформ /крещение Руси, решения Стоглавого собора, начало реформы Никона.**

Какие события мировой и отечественной истории связаны с 1572 г? **Варфоломеевская ночь /Франция/, умер Сигизмунд II /Польша/, конец опричнины, битва при Молодях /Россия/.**

Полицейское государство - **строй, где оппозиция властям подавляется полицией**
Реформистское течение в российской социал-демократии, возникшее в результате раскола РСДРП в 1903 году, называется **Меньшевизм.**

Задание 11. **Знаете ли вы свой край?** Максимум 10 бонусов.



По вертикали: 2. Изобретение уральца Артамонова А.Е., на котором он совершил в конце XVIII века путешествие в Москву. **Велосипед**

По горизонтали: 1 Предприниматель, скупивший под носом у Никиты Демидова, доставшиеся по суду его брату Прокофию Демидову, заводы Урала. **С. Яковлев.** 3. Город-родина создателя автомата Калашникова. **Ижевск** 4. Герой

7

8

9

10

Гражданской войны на Урале, стал маршалом СССР
Блюхер 5. Наш земляк, создатель первого трактора
Аммос. 6. Город-лётчик на Урале. **Серов** 7. Место ссылки декабристов. **Туринск** 8. Режиссёр фильма «Угрюм-река», **Я. Лапшин** 9. Главное богатство Хозяйки уральских гор в сказах Бажова. **Медь** 10. Уральский скульптор. **Шадр**

Задание 12. **Языческая культура**. Максимум **25** бонусов.

Соотнесите страну и сферу покровительства языческих божеств:

Б6, В2, Г9 Бог торговли, счёта А. Индия Г. Древняя 1. Эскулап 4. Гефест 7. Агни
А8, Б3, В1 Бог врачевания Б. Греция Русь 2. Меркурий 5. Сварог 8. Индра,
А7, Б4, Г5 Бог огня В. Древний Рим 3. Асклепий 6. Гермес 9. Велес

Подчеркните, какие чудеса относились к семи знаменитым «чудесам света», описанным Антипатром из Фессалоник и **Геродотом**

«Небесное дерево» в Токио Водопад Виктория Небоскрёб Бурдж Дубай
Сады Семирамиды в Вавилоне Лабиринт в Иерихоне **Александрийский маяк**
 Статуя Христа в Рио-де-Жанейро **Пирамида Хеопса** Стена плача в Иерусалиме

Поясните, с каким сюжетом связан этот рисунок на греческой вазе?

Помещён рисунок с амфоры: Геракл сражается с лернейской гидрой

Это второй подвиг Геракла. Царь Эврисфей послал Геракла убить лернейскую гидру – чудовище с телом змеи и девятью головами дракона, порождение Тифона и Ехидны. Гидра жила в болоте у г. Лерна и опустошала окрестности. В сражении Гераклу помогал Иолай / убил помощника гидры Рака/. Геракл сбивал головы гидры, но вместо сбитых, появлялось вдвое больше. Иолай стал прижигать шею, чтобы новых голов не выросло. Последнюю голову Геракл придавил скалой. Ядовитую желчь гидры Геракл потом использовал для своих стрел.

Задание 13. **К какой эпохе относятся эти шедевры, открытия и изобретения?** Максимум **10** бонусов.

1. «Дмитрий Солунский» - мозаика 2. Кругосветка Фернана Магеллана 3. Нанотехнологии 4. Открытие Австралии Дж. Куком 5. Появление ветряных мельниц 6. код Л. да Винчи 7. Открыты кварки 8. Первые спички	Древняя Русь IX – XII века	Эпоха Средневековья до XIV века	Эпоха Возрождения в Европе до XVI века	Эпоха Нового времени с XVII по XIX век	Новейшее время XX – XXI век
--	----------------------------	---------------------------------	--	--	-----------------------------

1	5,10	2,6	4,8,9	3,7
---	------	-----	-------	-----

Задание 14. **Архитектура и живопись**
Максимум **35** бонусов

Фото Покрова
на Нерли

Обведите кружком то, что относится к этому сооружению:

1. Это храм, в нишу которого вделан священный Чёрный камень /кааба/– окаменелый ангел, который в день страшного суда сможет выступить в защиту мусульман;
2. По легенде белый камень для постройки церкви был вывезен из покорённого русичами Булгарского царства.
3. Это первая церковь Покрова Богородицы на Руси;
4. Это храм Покрова на Рву /храм Василия Блаженного/
5. Это православный храм Покрова на Нерли, построенный Андреем Боголюбским в память о погибшем сыне Изяславе.
6. Храм построен на насыпном острове, с фундаментом выше 5 м в глубину.
7. Храм крестово-купольный
8. Собор готического стиля
9. Это языческое капище
10. Это шатровая постройка
11. Это буддийская святыня
12. Это Софийский собор

Помещена репродукция картины Казимира Малевича «Девушки в поле»

Аналитическая работа. Перед вами работы трёх авторов. К каждой работе все вопросы.

1. **Фреска это живопись по сырой штукатурке**
Отметьте фреску соответствующей цифрой.
2. Кто работал в стиле супрематизма?
3. Кого из авторов называли основоположником бытового жанра в русской живописи?
4. Кто из авторов: а/ рисовал квадраты; б/ писал иконы; в/ стал «отцом русской карикатуры»

Ответ: **2, 4а, 7в, 8а, АIII, «Чёрный квадрат», «Красный квадрат», «Автопортреты»**

5. Кто был учеником Боровиковского В.Л.?
6. Чьё творчество аристократы сравнивали с «кучерской музыкой» Михаила Глинки?
7. В какое время творили эти живописцы?
а/.XVII в.; б/.нач.XIX в.; в/.нач.XX в.
8. Для каких работ относятся характеристики:
а/ авангардизм; б/ становление реализма;
в/ начало процесса обмирщения культуры
9. Допишите к ответам какие ещё картины этих художников вам известны?

Помещена репродукция фрески Гурия Никитина из ц.Ильи Пророка в Ярославле «Жатва»

Ответ: **1, 4б, 7а, 8в, БI, «Жатва», «Андрей Стратилат»**

Помещена работа А.Г.Венециа- Составьте правильные пары, отбросив лишнее и

нова «Жнецы»

поместите соответствующие буквы и цифры ко всем ответам по трём художникам.:

- | | |
|---------------------------|----------------------|
| А/ «Девушки в поле» | I. Гурий Никитин |
| Б/ « Жатва» | II. Василий Перов |
| В/ «Жнецы» | III. Казимир Малевич |
| Г/ «Троица» | IV. А.Г.Венецианов |
| Д/ «Рабочий и колхозница» | V.Зураб Церетелли |

Ответ: **3, 4в, 5, 6, 7б, 8б, ВIV, « Жнецы», «На жатве. Лето», «Гумно», «Весна на пашне», «Пастушок»**