

Ключи к заданию по истории. Вступительные испытания в 9 СГУМ

1. Всеобщая история и культура.

Блиц-эрудит.

*Откуда в Европу привезли томаты, бобы, арахис, тыкву, кабачки, кленовый сироп? **Из Америки.**

*Откуда появилась бумага, порох, компас, шёлк, фарфор, чай? **Китай.**

*Что объединяет этих людей? Ректор Пражского университета Ян Гус, Орлеанская дева Жанна д`Арк, учёный Джордано Бруно, испанский врач Мигель Сервет? **Все сожжены на костре инквизицией.**

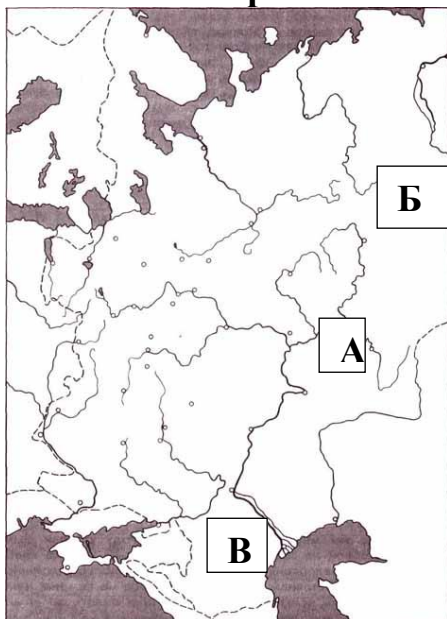
*Австрийский композитор, с 3 лет играл на клавесине, в 5 стал сочинять музыку, с 8 уже писал симфонии, с 10 оперы. Ему принадлежат свыше 600 музыкальных произведений. Короли Европы восторгались его талантом /ЛюдовикXV, ГеоргIII/. Он дружил с Йозефом Гайдном, предрёк блестящее будущее Бетховену. Похоронен в неизвестной могиле в Вене. Кто это? **Вольфганг Амадей Моцарт, Назовите его оперы: «Свадьба Фигаро», «Дон Жуан», «Волшебная флейта».**

*Великий английский поэт Джордж Байрон с горечью писал: «Не странно ль, что если являются гости / К нам голод и слышится вопль бедняка, - / За ломку машины ломаются кости / И ценятся жизни дешевле чулка»/. Почему сторонники легендарного рабочего Неда Лудда разбивали свои станки? Как их называли? **Луддиты разрушали машины, считая машины главными виновниками безработицы и голода.**

*Какая акция протеста 16 декабря 1773 года американских колонистов в Бостоне под предводительством Сэмюэля Адамса стала преддверием революции и войны за независимость? **Бостонское чаепитие/выбросили груз чая в море, протестуя против английского владычества.**

*В ходе Великой Французской революции в Национальном Конвенте: «правое» крыло составляли умеренные буржуазные республиканцы. Как их называли? **Жирондисты;** «левое» крыло наиболее революционная часть буржуазии, готовая идти на углубление революции, на казнь Людовика XVI и провозглашение Франции республикой. Как их называли? **Монтаньяры/ Гора/**

2. Россия и мир.



Отметьте на карте буквами:

А. Волжскую Булгарию;

Б. Пермь Великую;

В. Хазарский каганат.

Ответьте на вопросы:

Когда и почему Волжская Булгария прекратила своё существование?

Разгромил Батый в 1236 г.

Кто и когда разгромил Хазарский каганат?

В 965 г. разбил Святослав

При ком в состав Московского государства вошла Пермь Великая?

При Иване III начало вхождения, при Василии III - завершение.

Работа с таблицей. Заполните пропуски.

Война, сражение, поход	Когда произошло событие?	Кто против кого воевал?	Последствия и результаты действий
Крестьянская война	1773-1775 гг.	Емельян Пугачев против правительственных войск Екатерины II	Самое крупное восстание. Подавлено в результате превосходства правительственных войск в вооружении, выучке, согласованности действий
Сражение у деревни Лесной	28 сентября 1708 г.	Шведский корпус Левенгаупта разбит Петром I, Карл XII оказался в изоляции, отрезан от запасов и резервов	Сражение вошло в историю как «первая солдатская проба», «мать Полтавской баталии». Русскими войсками был захвачен вражеский обоз, 7 тыс. повозок с орудиями и продовольствием
Первый общерусский крестовый поход	1111 г.	Владимир Мономах (при Святополке II) с половцами	Общими усилиями всех князей, с благословения митрополита Никифора выдвинулись в степь, заняли Шарукань, Сугров, разбили врагов. «Слава великая по всей Европе».

3. Работа с понятиями и документами.

А. Определите название документа, фрагмент которого приведён ниже: «А крестьянам уходить из волости, из села в село, один срок в году, за неделю до Юрьева дня и неделю после Юрьева дня. Дворы пожилые платят в полях за двор рубль, а в лесах полтина. А который крестьянин поживёт кем год да пойдёт прочь, и он платит четверть двора, а два года поживёт... полдвора платит, а три года поживёт... платит три четверти двора, а четыре года поживёт, и он весь двор платит».

Обведите кружком правильный вариант ответа:

- 1.«Русская правда»;
- 2.«Судебник» 1497 года;
3. «Указы о заповедных летах» 1581года;
4. «Соборное Уложение»1649 года;

Дайте ответ на вопрос; как соотносится Юрьев день и день св. Георгия
Один и тот же день 26 ноября. Георгий=Юрий

Б. О каком событии говорится в летописи: «Тоя же зимы, в 3 день, царь и великий князь Иван Васильевич со своей царицей и своими детьми поехал из Москвы в село Коломенское: а от Троицы из Сергиева монастыря поехал в Слободу; 3 день прислал царь из Слободы к митрополиту всея Руси список, в нём писаны измены боярские и воеводские и всех приказных людей, которые измены делали и убытки государству. И на них царь великий князь гнев свой положил... Царь повелел учинить ему на своем государстве двор особый...».

Обведите кружком правильный вариант ответа:

1. об утверждении опричнины;
2. о венчании на царство;
3. о создании стрелецкого войска;
4. об отмене кормлений.

Выстройте цифры упомянутых выше событий в хронологической последовательности **2, 3, 4, 1**

В. Законодательный акт, устанавливающий систему военных, гражданских и придворных чинов, их соотношение, а также порядок прохождения государственной службы, последовательность чинопроизводства в Российской империи назывался: **Табель о рангах**. Когда утверждён? **Январь 1722 года**.



Г. Когда этим государем был принят Указ о престолонаследии? **1722 г.** Какие новшества в нём содержались? **Монарх сам назначал себе преемника.**

Сумел ли он воспользоваться этим указом?

Не успел. Только сказал: «Оставить всё...»

Кого изобразил скульптор Бартоломео Карло Растрелли? **Петра I**

4. Логические и аналитические задачи.



А. На картине Ильи Глазунова изображены **Вещий Олег и князь Игорь Рюрикович**.
Сделайте выбор, что относится к их деяниям:
а/ участие в бою с Мамаем; б/ торговые договоры с Византией; в/ оба связаны с утверждением династии Рюриковичей; г/призвали варягов;
д/ оба трагически погибли; е/ они язычники;
ж/ оба святые мученики; з/принимали христианство;
и/ сражались с хазарами.

Б. Кто сказал? Выпишите соответствующую букву к высказыванию, исключив лишних авторов:

___г___ «Нас немного, а враг силён, но Бог не в силе, а в правде! Идите с вашим князем!»

___е___ «Главное - не победа, а участие».

___а___ «Государственное образование, именовавшееся Священной Римской империей, не было ни священной, ни римской, ни империей»

___б___ «Целью войны является мир»

___в___ «Вот моя доля. Всё, что скопил, отдаю на рать»

а/ Вольтер; б/ Аристотель; в/ Козьма Минин; г/ Александр Ярославич Невский; д/ Борис и Глеб; е/ Пьер де Кубертен; ж/ А.В. Суворов.

5.История и культура Урала. Чайнворд.

1М	У	Л	Я	В	И	Н
2А	Р	Д	А	Ш	Е	В
3Л	Ы	Ж	Н	И	Ц	Ы
4И	З	Р	А	З	Ц	Ы
5Н	И	К	О	Н	О	В
6И	Г	Р	У	Ш	К	А
7Н	О	Г	А	Й	Ц	Ы

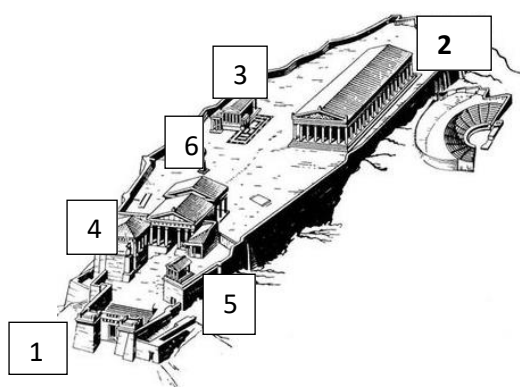
По вертикали: 1.Исполнитель романсов, родом из Свердловска: «Напрасные слова», «Поручик Голицын», «Гори, гори, моя звезда» / приписывают А.В. Колчаку;/
По горизонтали: 1.Учился в Свердловске, первый исполнитель «Беловежской пуши»; 2. Двоюродный брат Ленина, нотариус в Екатеринбурге; 3.Кем были самые титулованные спортсменки края Лидия Скобликова и Клавдия Боярских?

4. Разноцветные кафельные плитки для печей и каминов, центрами производства которых на Урале стал Строгановский Орёл-городок и Соликамск; 5.Уральский писатель, именем которого названа одна из улиц в центре Екатеринбурга, автор «Сказок леса», повестей «Весталка», «Вкус жизни», «Париж стоит мессы»; 6. Как называется миниатюрная глиняная скульптура более 400 лет изготавливаемая в Дымково в Приуралье? 7.Степные татары, которых Екатерина II переселяла за Урал.

6. Мировая художественная культура.



На картине француза Гюстава Моро запечатлён сюжет греческого мифа. Кругом обведите какую из загадок разгадывал главный герой?
а/Что в нашей жизни всегда увеличивается и никогда не уменьшается? Ответ: **Возраст**
б/Кто ходит утром на 4 ногах, днём на 2, а вечером на 3? Ответ: **Человек, с детства до старости**
в/Всем кто придёт, всем кто уйдёт руку подаёт
Ответ: **Дверная ручка**
Кто главные герои мифа? Эдип разгадывает загадку Сфинкса про человека.



Что это за сооружение? **Акрополь**
Где находится? **В Афинах, в Греции**
Отметьте на плане цифрами:
1. Пропилеи; 2. Парфенон; 3. Эрехтейон /храм Афины и Посейдона/;
4. Пинакотеку; 5. Храм Ники Аптерос /Бескрылой/; 6. Статую Афины Промехос /Воительницы/ работы

Французский художник Жан Батист Симеон Шарден, творчеством которого восхищался просветитель Дени Дидро, по заказу императрицы Екатерины II написал натюрморт «Атрибуты искусств». Натюрморт задумывался как аллегория гармонического союза основных видов искусства и предназначался для украшения Академии художеств в Санкт-Петербурге, но картина так понравилась императрице, что она забрала её в Эрмитаж, в личную коллекцию. На натюрморте изображён стол художника, полученные им награды – орденовый крест на синей ленте, монеты и медали. Но главную роль играют атрибуты искусств. Какие?



1. Статуэтка древнеримского бога /работы Пигаля/ с крылатым шлемом, сандалиями. Это бог красноречия, торговли: **Меркурий**
+медный сосуд с чеканкой. Атрибуты какого искусства? **Скульптуры**
2. Палитра с кистями, ящики для красок. Атрибуты какого искусства? **Живописи**
3. Чертежи, свитки, готовальня. Атрибуты какого искусства? **Архитектуры**

7. Отечественная культура.

ТЕСТ. Обведите кружком верный ответ:



1. Где находится эта картина?
а/ Эрмитаж; **б/ Третьяковская галерея;**
в/ Музей современного искусства.
2. Кто её автор?
а/ первый русский символист М.А. Врубель;
б/ художник сказки В.М. Васнецов;
в/ русский и советский художник М.В. Нестеров.
3. Как она называется?
а/ «Сирин и Алконост. Песнь печали и радости»;
б/ «Царевна-лебедь»; в/ «Два лада /лебедя/»


4. Какой сюжет лежит в основе картины?

- а/ сказка А.С. Пушкина «О царе Салтане» и одноименная опера Н.А. Римского-Корсакова, где пела жена художника;**
б/ славянская легенда о том, что накануне Яблочного Спаса прилетают сказочные птицы;
в/ русская сказка-идиллия о лебединой верности и баллада А.К. Толстого.



5. Автор пейзажа: а/ «Царь русского леса» И.И. Шишкин; б/ И.Е. Репин; **в/ «чародей настроения» И.И. Левитан.**
6. Как называется эта картина?
а/ «У омута»; **б/ «Тихая обитель»;**
в/ «Над вечным покоем».
7. Силуэты каких сооружений мы видим? а/ скиты; б/ Кижы;
в/ Кривоезерский монастырь в Юрьевце

8. Назовите упоминаемых в ТЕСТЕ передвижников **Васнецов, Нестеров, Шишкин, Репин, Левитан, Вениг.**



9. Поясните сюжет картины Карла Венига «Последние минуты самозванца»
События 17 мая 1606 года, когда самозванца Лжедмитрия I / Григория Отрепьева/ свергли и убили ворвавшиеся в Кремль бояре во главе с Василием Шуйским.