

Ключи к заданию по истории. Вступительные испытания в 8 СГУМ

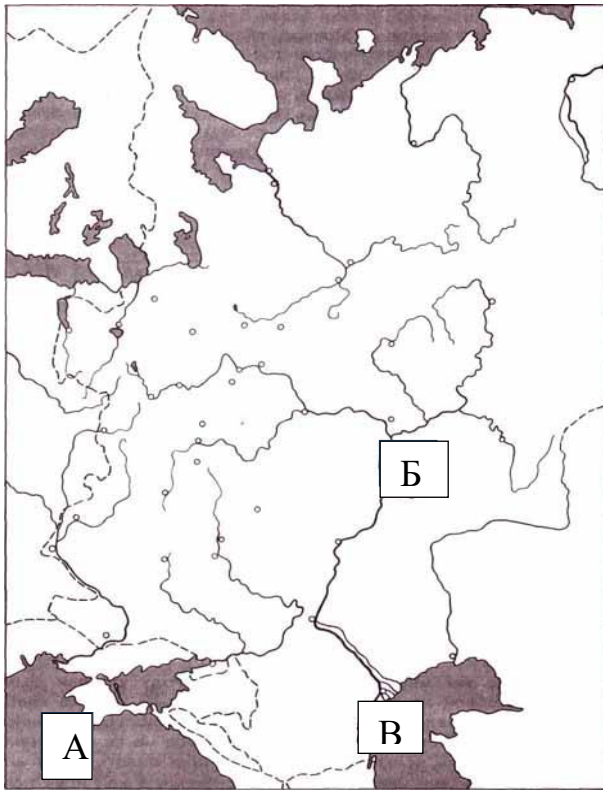
1. БЛИЦ-ЭРУДИТ.

*Откуда в Европу попали индейки, цесарки, морские свинки, картофель, кукуруза, табак, ананасы, какао-бобы? **ИЗ ЛАТИНСКОЙ АМЕРИКИ**

*Назовите самый известный буддийский монастырь - центр восточных единоборств в Китае **ШАО-ЛИНЬ**

*На остатках империи Александра Македонского образовывались новые государства, которые воевали за его наследие. Карфаген провёл три Пунические войны против Рима. Гениальный карфагенский полководец, живший в 247 – 183 гг. до н.э., ещё в детстве поклялся стать главным врагом Рима. Он во время второй Пунической войны, несмотря на численное превосходство римлян, спустился с Альп, ведя за собой не только конницу, пехоту, но и слонов, одержал победу на р. Треббия, окружил римлян при Каннах, но на Рим не пошёл, в результате римляне сумели взять реванш в битве при Заме. Военная мощь Карфагена была сломлена. Кто этот выдающийся полководец, прозванный «молнией»? **ГАННИБАЛ БАРКА**

*Эту «царицу царей» играли Элизабет Тейлор, Вивьен Ли, Анджелина Джоли. Она была последней царицей Египта из рода Птолемеев. В 18 лет она с соправителями взойшла на трон, вытеснила своих соперников и, опираясь на Рим, 21 год находилась у власти. Среди её покровителей были Гай Юлий Цезарь, погибший в 44 г до н.э., от которого у неё был сын Цезарион, не учтённый в завещании римского правителя, высказавшегося за внука своей сестры Гая Октавия. Соперник и шурин Октавия - Марк Антоний покинул Рим, одержав победу над убийцами Цезаря при Филиппах. Отношения между родственниками испортились после того как Марк Антоний бросил сестру Октавия, переселился в Александрию и женился на «царице царей». Между Октавианом Августом и Марком Антонием разразилась беспощадная война. Из неё победителем вышел Октавиан, его войска вошли в Александрию. Антоний покончил жизнь сам убийством и умер на руках своей второй жены. «Царица царей» тоже предпочла смерть от укусов змеи, которую велела себе принести, не желая смириться с победой своего личного врага. Кто это? **КЛЕОПАТРА**



2. РАБОТА С КАРТОЙ.

Отметьте на карте буквами:

А. Месторасположение
Крымского ханства.

Б. Казанского ханства.

В. Астраханского ханства.

Ответьте на поставленные
вопросы:

При каком государе
/государыне/ в состав России
вошли:

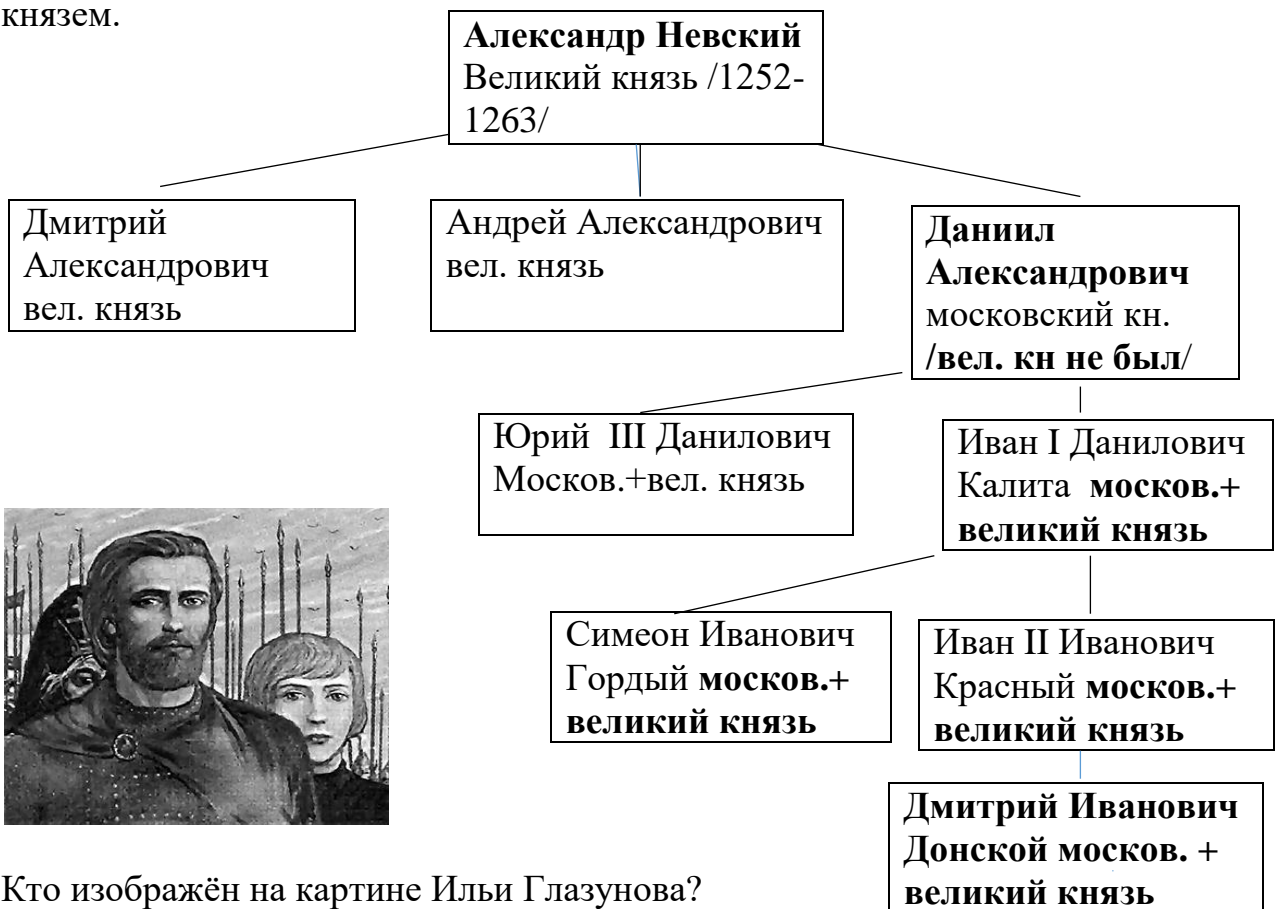
Крым **ЕКАТЕРИНА II**

Казань **ИВАН IV Грозный**

Астрахань **ИВАН Грозный**

3. РАБОТА С ДИНАСТИЧЕСКОЙ СХЕМОЙ. Заполните пропуски.

Укажите в таблице, кто из князей был одновременно и московским и великим князем.



Кто изображён на картине Ильи Глазунова?

Дмитрий Донской

Что за старец стоит за спиной князя? **Сергий Радонежский**

4. РАБОТА С ТАБЛИЦЕЙ. Заполните пропуски.

Война, сражение, поход	Когда произошло событие?	Кто против кого воевал?	Каковы результаты и последствия?
Ливонская война	1558-1583 гг.	Иван Грозный против ливонцев, Эрика XIV Вазы, Стефана Батория	Ливонский орден распался, но в борьбу за Прибалтику кроме России включились Швеция, Речь Посполитая. Россия войну проиграла.
Сражение на реке Калка	31 мая 1223 года	Русские князья и половцы против монголо-татар	Разведовательное сражение выиграла Судебей и Джубе. На костях раненых и убитых соорудили помост и отпраздновали это.
Поход Ермака в Сибирь	1581-1583 гг.	Казачи Ермака против сибирского хана Кучума	Ермак от Камы до Чусовой прошел через Урал до столицы хана Кашлыка (Искера, Сибири). Народы Сибири пошли под руку Москвы.

5. ИСТОРИЧЕСКИЕ ЗАДАЧИ: ШАРАДЫ, ЧАЙНВОРД.

Первый слог – нагружённая телега; второй – семейное торжество; целое – эпоха, к которой принадлежали Леонардо да Винчи, Сандро Боттичелли, Рафаэль Санти **ВОЗ+ РОЖДЕНИЕ**


Первый слог – священная гора у греков; второе – соединительный союз; третье – хвастливая буква; целое- город в Пелопоннесе **ОЛИМП+И+Я**
Допускаются варианты:

1.Купец; 2.Ахмат; 6. Алекс.

1К	У	П	Ц	Ы
2А	Х	М	А	Д
3П	Ы	Ш	М	А
4О	Н	И	К	С
5В	О	Г	У	Л
6А	Л	И	С	А

По вертикали: 1.Пещера на Ю.Урале на р. Белая с рисунками древних людей.

По горизонтали: 1.Социальный статус входивших в гостиную сотню торговцев Строгановых, Суровцевых; 2.Имя хана, стоявшего на Угре, убитого в Зауралье; 3.Река, на которой стоит медная столица Урала; 4. «Икряной камень» из уральской Липовки; 5.Древний представитель коренных жителей Урала; 6.Как Николай II, убитый в Екатеринбурге, звал жену?



6. РАБОТА С ПЛАНОМ.

Отметьте понятия связанные с этим архитектурным памятником.

1. Афинский Акрополь;
2. Амфитеатр Флавиев;
3. Парфенон; 4. Эрехтейон;
5. Пропилеи; 6. Пергамский алтарь;
7. Форум Романо; 8. Театр Диониса; 9. Колизей.

□

7. ЛОГИЧЕСКИЕ И АНАЛИТИЧЕСКИЕ ЗАДАНИЯ.

Что объединяет даты 1497, 1649? **Начало закрепощения крестьян Судебником Ивана III /введение Юрьева дня/ и завершением закрепощения Соборным уложением Алексея Михайловича /отмена Юрьева дня/.**

Какие из перечисленных событий относятся к XVII веку? **Б, Г, Е, Ж**
 А. опричнина; **Б. смутное время;** В. создание приказов; **Г. появление «парсунов»;** Д. отмена кормлений; **Е. восстания стрельцов; Ж. соляные бунты;** З. строительство храма Василия Блаженного.

История на кончике кисти и пера. Вставьте фамилии в стихотворение М.В.Ломоносова:

«Случились вместе два Астронома в пиру
 И спорили весьма между собой в жару,
 Один твердил: Земля, вертясь, круг Солнца ходит;
 Другой, что Солнце все с собой планеты водит:
 Один **КОПЕРНИК** был, другой слыл **ПТОЛЕМЕЙ**
 Тут повар спор решил усмешкою своей.
 Хозяин спрашивал: «Ты звёзд теченье знаешь?
 Скажи, как ты о сём сомненьи рассуждаешь?»
 Он дал такой ответ: «Что в том **КОПЕРНИК** прав,
 Я правду докажу, на Солнце не бывав.
 Кто видел простака из поваров такого,
 Который бы вертел очаг кругом жаркова?»



Клавдий Птолемей Николай Коперник

Подпишите картинку.
 Подсказка:
 Кто эти астрономы?
 Один поляк, другой грек, с фамилией царей Египта.