

## Задание по истории к вступительным испытаниям в 8 класс

\_\_\_\_\_ ШИФР заполняет ОКО.

|         |   |   |   |   |   |   |   |   |
|---------|---|---|---|---|---|---|---|---|
| задание | 1 | 2 | 3 | 4 | 5 | 6 | 7 | 8 |
| баллы   |   |   |   |   |   |   |   |   |
| подпись |   |   |   |   |   |   |   |   |

Макс. 50 баллов

1. БЛИЦ-ЭРУДИТ. Максимум 8 баллов. За каждый правильный ответ выставляется 1 балл.

1.1. Назовите имя египетского фараона, чья гробница посмертно не была разграблена.

Ответ: **Тутанхамон**

1.2. Какой деятель римской истории возглавил восстание против рабовладения в 73-71 гг. до н.э.?

Ответ: **Спартак**

1.3. Каким испанским словом (в переводе – «отвоевание») называют борьбу христиан на Пиренейском полуострове против арабов в VIII-XV вв.?

Ответ: **Реконкиста**

1.4. Укажите фамилию руководителя первой в истории кругосветной экспедиции.

Ответ: **Магеллан либо Эль Кано**

1.5. Как назывался первый русский сборник законов?

Ответ: **Русская Правда либо Правда Ярослава**

1.6. На какой реке в 1238 г. ордынские войска разгромили владимирскую рать великого князя Юрия Всеволодовича?

Ответ: **Сить**

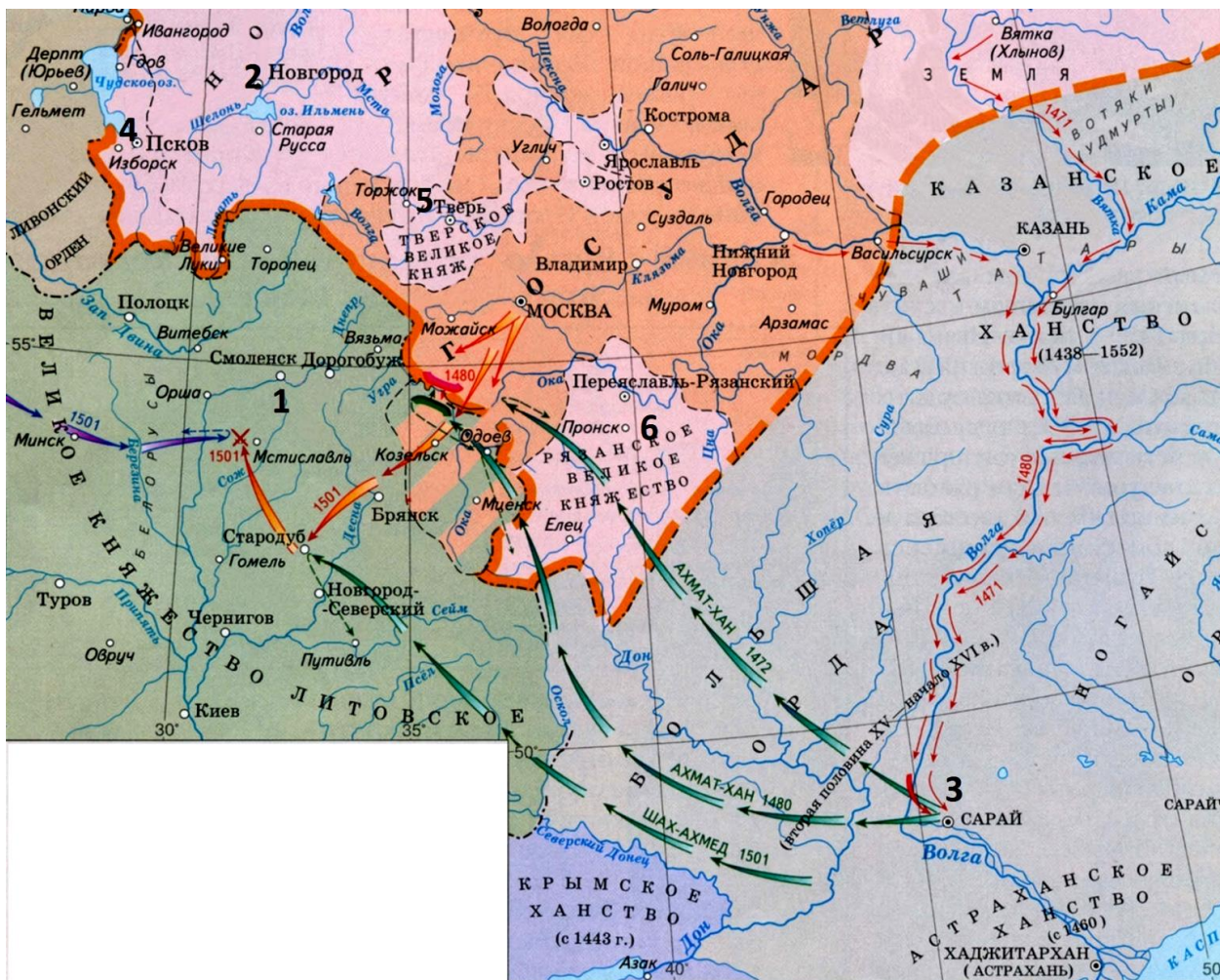
1.7. Назовите русского правителя (с порядковым номером, либо прозвищем), при котором Русская православная церковь стала автокефальной (самостоятельной).

Ответ: **Василий II Темный**

1.8. Назовите имя и фамилию запорожского гетмана, инициировавшего переход Левобережной Украины под власть России в 1654 году.

Ответ: **Богдан Хмельницкий**

2. РАБОТА С КАРТОЙ. Максимум 6 баллов (по 1 баллу за правильно отмеченную информационную единицу).



Отметьте цифрами на карте :

- 1 – город, завоеванный в войне с Литвой в 1514 г.;
- 2 – город, являвшийся центром крупного русского княжества, вошедшего в состав Московского государства в 1478 г.;
- 3 – столицу Большой Орды;
- 4 – город, вошедший в состав Московского государства в 1510 г.;
- 5 – княжество, присоединённое к Московскому государству в 1485 г.;
- 6 – княжество, присоединённое к Московскому государству в 1521 г.;

3. КТО КОМУ КЕМ ПРИХОДИТСЯ? *Максимум 5 баллов (по 1 баллу за каждый правильный ответ)*

А




3.1. Изображённый А изображённой Б  
Ответ: **Мужем**

3.2. Изображённый А Ивану Грозному (по версии самого изображённого А)  
Ответ: **Сыном**

3.3. Изображённый А Марии Нагой (по версии самого изображённого А)  
Ответ: **Сыном**

3.4. Изображённая Б Лжедмитрию II  
Ответ: **Женой**

Б



3.5. Изображённая Б Ивану Ворёнку  
Ответ: **Матерью**

**4. РАБОТА С ТАБЛИЦЕЙ.** *Максимум 6 баллов. По 1 баллу за каждый верно указанный пропущенный элемент. Вставьте недостающие элементы в таблицу. Отсутствующие элементы таблицы необходимо вписывать прямо в ячейки к цифрам.*

| Событие                         | Дата           | Участник события (любой)   | Итог события   |
|---------------------------------|----------------|--|--|
| Антиордынское восстание в Твери | <b>1327</b>    | <b>Тверской князь Александр Михайлович либо Чол-хан (Щелкан, Шевкал)</b> | Восстание победило, но Тверское княжество было разорено в следующем году московско-ордынским войском, ярлык на великое княжение и право сбора дани с русских земель переходит Ивану Калите |
| <b>Битва на Косовом поле</b>    | 1389 г.        | Милош Обилич   | <b>Поражение сербского войска, гибель обоих командующих войсками – Лазаря Хребеляновича и Мурада I (любое правильное положение засчитывается)</b>  |
| <b>Битва на реке Воже</b>       | <b>1378 г.</b> | Московский князь Дмитрий Иванович  | Разгром ордынского войска, гибель полководца Бегича, первая крупная победа русских сил над Золотой Ордой   |

**5. ЛОГИЧЕСКИЕ и АНАЛИТИЧЕСКИЕ ЗАДАНИЯ.** *Максимум 10 баллов. Вам даны логические цепочки. Необходимо указать лишний элемент в цепочке и объяснить, почему Вы его выбрали. 1 балл выставляется за верное указание исключения, ещё 1 балл – за объяснение повода для исключения элемента. В случае неправильного выбора элемента объяснение не оценивается, даже если оно правильное.*

5.1. Хорс, Дажьбог, Ярило, Гефест, Мокошь, Лада.

**Ответ: Гефест. Он не является божеством славянского языческого пантеона**

5.2. Прокопий Ляпунов, Кузьма Минин, Дмитрий Пожарский, Иван Болотников, Иван Заруцкий.

**Ответ: Иван Болотников. Он не был руководителем I или II ополчений, призванных освободить Москву от интервентов.**

5.3. Стоглавый собор, первый Земский собор, учреждение стрелецкого войска, Судебник 1550 г., введение патриаршества в Московском царстве.

**Ответ: Введение патриаршества в Московском царстве – мероприятие, осуществленное не при Иване Грозном; это не одна из реформ Избранной Рады.**

5.4. Александр Невский, Дмитрий Донской, Пересвет, Дмитрий Боброк - Волынский

**Ответ: Александр Невский. Он не был участником Куликовской битвы. Можно засчитать объяснение, связанное с тем, что все перечисленные исторические деятели – современники из XIV в., а Александр Невский жил в XIII в.**

5.5. Москва, Киев, Ладога, Смоленск, Новгород.

**Ответ: Смоленск. Этот город никогда не был столицей русского государства в любой его форме.**

**6. «УТКА».** *Максимум 5 баллов. Перед Вами – текст на историческую тематику. Внимательно прочитайте его и найдите 2 фактические ошибки. Исправьте их.*

Многочисленные данные свидетельствуют, что христианство стало распространяться на Руси еще до официального крещения Руси при Владимире I Игоревиче в 1054 году (есть, впрочем, и другие предполагаемые даты крещения, рассмотрение которых не входит в задачу данной статьи). И все эти свидетельства говорят о появлении христианства прежде всего в центрах общения людей разных национальностей, даже если это общение бывало далеко не мирным. Это снова и снова указывает на то, что людям требовалась вселенская, мировая религия.

---

---

---

---

---

---

---

---

**Ответ:** Владимир носил отчество Святославич. Крещение Руси произошло не в 1054 году, а раньше (общепринятая дата – 988 год).

**Система оценивания задания:**

**5 баллов – найдены и исправлены обе ошибки;**

**4 балла – найдены 2 ошибки и исправлена одна ошибка;**

**3 балла – найдена и исправлена 1 ошибка;**

**2 балла – найдены 2 ошибки;**

**1 балл – найдена 1 ошибка.**

7. МИРОВАЯ ХУДОЖЕСТВЕННАЯ КУЛЬТУРА. *Максимум – 5 баллов. По 1 баллу за каждый верный ответ.*



7.1. Назовите фамилию автора гравюры, представленной слева.

Ответ: **Дюрер**

7.2. Назовите фамилию любого другого представителя Северного Возрождения.

Ответ: **любой подходящий деятель, например: Ганс Гольбейн, Иероним Босх, Питер Брейгель, Ян ван Эйк и другие.**

7.3. Иллюстрацией к какой книге является эта гравюра?

Ответ: **Библия либо «Апокалипсис» либо «Откровение Иоанна».**



7.4. Как зовут древнегреческого героя, участника Троянской войны, изображённого на картинке слева?

Ответ: **Ахилл либо Ахиллес.**

7.5. Назовите любого другого героя, воевавшего за греков в той войне (троянцев называть нельзя).

Ответ: **Аякс, Агамемнон, Одиссей, Патрокл и др. Засчитывается любой правильный ответ, не противоречащий формулировке**

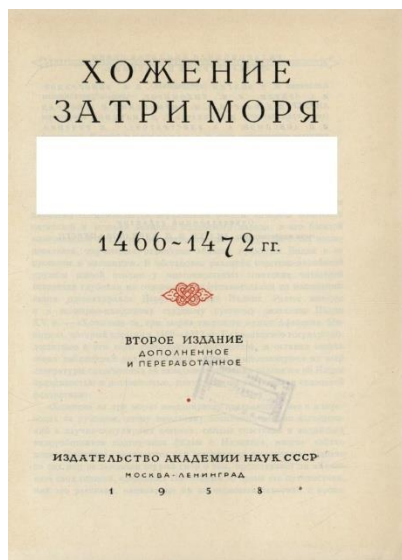
**задания.**




**8. ОТЕЧЕСТВЕННАЯ ХУДОЖЕСТВЕННАЯ КУЛЬТУРА.** *Максимум – 5 баллов. По 1 баллу за каждый верный ответ.*

*Укажите авторство представленных ниже культурных объектов.*

А




Б




В



Г



Д



**А: Афанасий Никитин**

**Б: Симон Ушаков**

**В: Андрей Чохов**

**Г: Алевиз Новый**

**Д: Барма или Постник**

**Для А, Б, В допустимо отметить лишь фамилию.**